

Series FH4GE**Set - 2**

रोल नं.

Roll No.

--	--	--	--	--	--	--	--

प्रश्न-पत्र कोड

Q.P. Code

32/4/2

परीक्षार्थी प्रश्न-पत्र कोड को उत्तर-पुस्तिका के मुख-पृष्ठ पर अवश्य लिखें।

Candidates must write the Q.P. Code on the title page of the answer-book.



सामाजिक विज्ञान SOCIAL SCIENCE



निर्धारित समय : 3 घण्टे

Time allowed : 3 hours

अधिकतम अंक : 80

Maximum Marks : 80

नोट / Note	^
(I) कृपया जाँच कर लें कि इस प्रश्न-पत्र में मुद्रित पृष्ठ 21+1 मानचित्र हैं। Please check that this question paper contains 21 printed pages + 1 Map.	
(II) कृपया जाँच कर लें कि इस प्रश्न-पत्र में 37 प्रश्न हैं। Please check that this question paper contains 37 questions.	
(III) प्रश्न-पत्र में दाहिने हाथ की ओर दिए गए प्रश्न-पत्र कोड को परीक्षार्थी उत्तर-पुस्तिका के मुख-पृष्ठ पर लिखें। Q.P. Code given on the right hand side of the question paper should be written on the title page of the answer-book by the candidate.	
(IV) कृपया प्रश्न का उत्तर लिखना शुरू करने से पहले, उत्तर-पुस्तिका में यथास्थान पर प्रश्न का क्रमांक अवश्य लिखें। Please write down the Serial Number of the question in the answer-book at the given place before attempting it.	
(V) इस प्रश्न-पत्र को पढ़ने के लिए 15 मिनट का समय दिया गया है। प्रश्न-पत्र का वितरण पूर्वाह्न में 10.15 बजे किया जाएगा। 10.15 बजे से 10.30 बजे तक छात्र केवल प्रश्न-पत्र को पढ़ेंगे और इस अवधि के दौरान वे उत्तर-पुस्तिका पर कोई उत्तर नहीं लिखेंगे। 15 minutes time has been allotted to read this question paper. The question paper will be distributed at 10.15 a.m. From 10.15 a.m. to 10.30 a.m., the students will read the question paper only and will not write any answer on the answer-book during this period.	

32/4/2

Page 1 of 24

P.T.O.

**सामान्य निर्देश :**

निम्नलिखित निर्देशों को ध्यानपूर्वक पढ़िए और उनका पालन कीजिए :

1. इस प्रश्न-पत्र में 37 प्रश्न हैं। सभी प्रश्न अनिवार्य हैं।
2. प्रश्न-पत्र छः खण्डों में विभाजित है - खण्ड क, ख, ग, घ, ङ एवं च।
3. खण्ड क - प्रश्न संख्या 1 से 20 बहुविकल्पीय प्रकार के प्रश्न हैं। प्रत्येक प्रश्न 1 अंक का है।
4. खण्ड ख - प्रश्न संख्या 21 से 24 अति लघु-उत्तरीय प्रकार के प्रश्न हैं। प्रत्येक प्रश्न 2 अंकों का है। इन प्रश्नों का उत्तर 40 शब्दों से अधिक नहीं लिखा जाना चाहिए।
5. खण्ड ग - प्रश्न संख्या 25 से 29 लघु-उत्तरीय प्रकार के प्रश्न हैं। प्रत्येक प्रश्न 3 अंकों का है। इन प्रश्नों का उत्तर 60 शब्दों से अधिक नहीं लिखा जाना चाहिए।
6. खण्ड घ - प्रश्न संख्या 30 से 33 दीर्घ-उत्तरीय प्रकार के प्रश्न हैं। प्रत्येक प्रश्न 5 अंकों का है। इन प्रश्नों का उत्तर 120 शब्दों से अधिक नहीं लिखा जाना चाहिए।
7. खण्ड ङ - प्रश्न संख्या 34 से 36 केस-आधारित/स्रोत-आधारित प्रश्न हैं, जिनमें 3 उप-प्रश्न हैं। प्रत्येक प्रश्न 4 अंकों का है।
8. खण्ड च - प्रश्न संख्या 37 मानचित्र कौशल आधारित प्रश्न है, जिसमें दो भाग हैं- 37(i) इतिहास (2 अंक) और 37(ii) भूगोल (3 अंक)। इस प्रश्न के कुल 5 अंक हैं।
9. इसके अतिरिक्त, ध्यान दें कि दृष्टिबाधित परीक्षार्थियों के लिए चित्र तथा मानचित्र आदि आधारित प्रश्नों के स्थान पर एक अन्य प्रश्न दिया गया है। इन प्रश्नों के उत्तर केवल दृष्टिबाधित परीक्षार्थी ही लिखें।

खण्ड - क**(बहुविकल्पीय प्रश्न)****(20×1 = 20)**

1. विकास के निम्नलिखित लक्ष्यों को पढ़िए तथा विश्वविद्यालय में शिक्षा ग्रहण करने वाले छात्र के लक्ष्यों से संबंधित सही विकल्प का चयन कीजिए।

1

- (i) अनुसंधान के अच्छे अवसर।
- (ii) विदेशों में उच्च शिक्षा ग्रहण करने के अवसर।
- (iii) स्वतंत्रता प्राप्ति के अवसर।
- (iv) अच्छे रोजगार के अवसर।

विकल्प :

- (a) केवल (i), (ii) और (iii) सही हैं।
- (b) केवल (ii), (iii) और (iv) सही हैं।
- (c) केवल (i), (ii) और (iv) सही हैं।
- (d) केवल (i), (iii) और (iv) सही हैं।

**GENERAL INSTRUCTIONS :**

Read the following instructions carefully and follow them :

1. This question paper contains **37** questions. **All** questions are compulsory.
2. Question paper is divided into **SIX** sections – **Section A, B, C, D, E and F**.
3. **Section A** – question number **1 to 20** are multiple choice type questions. Each question carries **1** mark.
4. **Section B** – question number **21 to 24** are Very Short Answer type questions. Each question carries **2** marks. Answer to these questions should not exceed **40** words.
5. **Section C** – question number **25 to 29** are Short Answer type questions. Each question carries **3** marks. Answer to these questions should not exceed **60** words.
6. **Section D** – question number **30 to 33** are Long Answer(LA) type questions. Each question carries **5** marks. Answer to these questions should not exceed **120** words.
7. **Section E** – question number **34 to 36** are **Case-based/Source-based** questions with three sub-questions. Each question carries **4** marks.
8. In **Section F** – question number **37** is **Map skill based** question with two parts – **37(i)** History (**2** marks) and **37(ii)** Geography (**3** marks). This question carries total **5** marks.
9. In addition to this, **NOTE** that a separate question has been provided for the Visually Impaired Candidates in lieu of questions having visual inputs, Map etc. Such questions are to be attempted by the Visually Impaired Candidates only.

SECTION – A**(Multiple Choice Questions)****(20×1 = 20)**

1. Read the following developmental goals and choose correct option of goals related to a student studying in university. **1**
 - (i) Good opportunities for research.
 - (ii) Opportunities to pursue higher education abroad.
 - (iii) Opportunities for independence.
 - (iv) Opportunities for good employment.

Options :

 - (a) Only (i), (ii) and (iii) are correct.
 - (b) Only (ii), (iii) and (iv) are correct.
 - (c) Only (i), (ii) and (iv) are correct.
 - (d) Only (i), (iii) and (iv) are correct.





2. डिजिटल प्रौद्योगिकी के विकास ने वैश्वीकरण को बहुत प्रभावित किया है। निम्नलिखित में से इसका कौन-सा मुख्य लाभ है ?

1

- (a) संचार लागत में वृद्धि
(b) सूचना तक सीमित पहुंच
(c) बढ़ी हुई संयोजकता
(d) लेन-देन की धीमी गति

3. ऋण के निम्नलिखित स्रोतों को ध्यानपूर्वक पढ़िए और ऋण के औपचारिक स्रोतों से संबंधित सही विकल्प का चयन कीजिए।

1

- (i) व्यावसायिक बैंक (ii) जमींदार
(iii) सरकार (iv) साहूकार

विकल्प :

- (a) (i) और (iii) सही हैं। (b) (ii) और (iv) सही हैं।
(c) (i) और (ii) सही हैं। (d) (ii) और (iii) सही हैं।

4. रिक्त स्थान की पूर्ति के लिए सही विकल्प का चयन कीजिए :

1

क्षेत्रक	प्रयुक्त मानदंड
• प्राथमिक, द्वितीयक तथा तृतीयक
• संगठित तथा असंगठित क्षेत्रक	रोजगार गतिविधियों की प्रकृति

विकल्प :

- (a) सामाजिक गतिविधियों की प्रकृति
(b) राजनीतिक गतिविधियों की प्रकृति
(c) उत्पादन गतिविधियों की प्रकृति
(d) सरकारी गतिविधियों की प्रकृति

5. अर्थव्यवस्था के क्षेत्रकों के संदर्भ में निम्नलिखित विकल्पों में से विषम विकल्प का चयन कीजिए :

1

- (a) पायलट, ड्राइवर, माली
(b) मछुआरा, शिक्षक, वकील
(c) इंजीनियर, प्रोफेसर, किसान
(d) डॉक्टर, शिक्षक, वकील

6. विश्व बैंक की विकास रिपोर्ट निम्नलिखित में से किस आधार पर तैयार की जाती है ?

1

- (a) प्रति व्यक्ति आय
(b) स्वास्थ्य सेवाएं
(c) साक्षरता
(d) स्वतंत्रता





^

2. The growth of digital technology has greatly influenced globalization. Which of the following is its main benefit ? 1

(a) Increased Communication Cost
(b) Limited Access to Information
(c) Enhanced Connectivity
(d) Slower Transaction Speed

3. Read the following sources of loan carefully and choose the correct option related to formal sources of credit. 1

(i) Commercial Bank (ii) Landlords
(iii) Government (iv) Money Lender

Options :

(a) (i) and (iii) are correct. (b) (ii) and (iv) are correct.
(c) (i) and (ii) are correct. (d) (ii) and (iii) are correct.

4. Choose the correct option to fill the blank : 1

Sector	Criteria Used
• Primary, Secondary and Tertiary
• Organized and Unorganized Sectors	Nature of Employment Activities

Options :

(a) Nature of social activities
(b) Nature of political activities
(c) Nature of production activities
(d) Nature of government activities

5. Choose the odd one out from the following options regarding the sectors of economy : 1

(a) Pilot, Driver, Gardener
(b) Fisherman, Teacher, Lawyer
(c) Engineer, Professor, Farmer
(d) Doctor, Teacher, Lawyer

6. The World Bank's development report is prepared on the basis of which of the following : 1

(a) Per Capita Income
(b) Health Services
(c) Literacy
(d) Freedom





7. नीचे दी गई तालिका का ध्यानपूर्वक अध्ययन कीजिए और उसके नीचे दिए गए प्रश्न का उत्तर दीजिए :

कुछ देशों के आँकड़े

देश	सकल राष्ट्रीय आय (स.रा.आ.) प्रति व्यक्ति (2017 क्रय शक्ति क्षमता) अमेरिकी डॉलर में	जन्म के समय संभावित आयु	लोगों की विद्यालयी औसत आयु 25 वर्ष या उससे अधिक	विश्व में मानव विकास सूचकांक (HDI) का क्रमांक (2021-22)
A	12,578	76.4	10.8	73
B	6,590	67.2	6.7	132
C	3,851	65.7	6.4	149
D	4,624	66.1	4.5	161
E	3,877	68.4	5.1	143
F	5,472	72.4	7.4	129

निम्नलिखित में से किस देश की उच्च प्रति व्यक्ति आय, जन्म के समय संभावित आयु और मानव विकास सूचकांक में उच्च क्रम है ?

1

- (a) A (b) C
(c) E (d) F

8. भारत में स्थानीय स्वशासन प्रणाली में महिलाओं के लिए 33% के प्रतिनिधित्व का संविधान संशोधन किस वर्ष में किया गया ? सही विकल्प का चयन कीजिए :

1

- (a) 1990 (b) 1984
(c) 1992 (d) 1988

9. एक लोकतांत्रिक देश में सरकार नागरिकों और विशेषज्ञों की सहायता से पर्यावरण के अनुकूल नीतियों को अपनाती है। निम्नलिखित में से कौन-सा इस प्रक्रिया का प्रमुख सकारात्मक परिणाम है ?

1

- (a) सरकार नीतियों के निर्धारण में सक्षम है।
(b) नागरिक नीतियों के निर्धारण में स्वयं को सशक्त महसूस करते हैं।
(c) कॉर्पोरेट नीतियों के निर्धारण में अपने हितों की रक्षा करते हैं।
(d) बाज़ार की शक्तियाँ भी अपने हितों के लिए सरकार को प्रभावित करती हैं।

10. निम्नलिखित में से कौन-सा जोड़ा सही सुमेलित है ?

1

सूची-I (क्षेत्रीय दल)

सूची-II (क्षेत्र)

- (a) राष्ट्रीय जनता दल - उत्तर प्रदेश
(b) जनता दल (सेक्यूलर) - बिहार
(c) राष्ट्रीय लोक दल - असम
(d) बीजू जनता दल - ओडिशा





7. Read the table given below carefully and answer the question that follow :

Data of few Countries

Country	Gross National Income (GNI) per capita (2017 PPP) in US \$	Life Expectancy at birth	Mean Years of Schooling of People aged 25 and above	HDI Rank in the world (2021-22)
A	12,578	76.4	10.8	73
B	6,590	67.2	6.7	132
C	3,851	65.7	6.4	149
D	4,624	66.1	4.5	161
E	3,877	68.4	5.1	143
F	5,472	72.4	7.4	129

Which of the following countries has high per capita income, life expectancy at birth and high rank in human development index ?

1

- (a) A (b) C
(c) E (d) F

8. In which year the Constitution amendment providing for 33% representation of women in the local self governance system in India was made ? Choose the correct option :

1

- (a) 1990 (b) 1984
(c) 1992 (d) 1988

9. In a democratic country the government adopts environment friendly policies with the help of citizens and experts. Which one of the following is a positive outcome of this process ?

1

- (a) The government is capable of determining policies on its own.
(b) Citizens feel empowered to determine policies.
(c) Corporates protect their own interest in determining policies.
(d) Market forces also influence the government for their interests.

10. Which one of the following pairs is correctly matched ?

1

List-I (Regional Parties)

List-II (Regions)

- (a) Rashtriya Janta Dal – Uttar Pradesh
(b) Janta Dal (Secular) – Bihar
(c) Rashtriya Lok Dal – Assam
(d) Biju Janta Dal – Odisha





11. निम्नलिखित में से कौन-सा भारतीय लोकतंत्र में सत्ता के क्षैतिज वितरण का उदाहरण है ? 1

- (a) केन्द्र और राज्य सरकारों के बीच शक्ति वितरण।
- (b) ग्रामीण और शहरी सरकारों के बीच शक्ति वितरण।
- (c) प्रशासन, न्यायालय और सेना के बीच शक्ति वितरण।
- (d) विधायिका, कार्यपालिका और न्यायपालिका के बीच शक्ति वितरण।

12. भारतीय संघीय संरचना पूरे देश में संतुलित शासन को कैसे बढ़ावा देती है ? निम्नलिखित में सबसे उपयुक्त विकल्प का चयन कीजिए : 1

- (a) राज्यों को सभी मुद्दों पर पूर्ण स्वायत्तता की अनुमति देकर।
- (b) केन्द्र और राज्यों के बीच शक्तियों की साझेदारी सुनिश्चित करके।
- (c) सभी निर्णय लेने की प्रक्रियाओं को केन्द्र सरकार के अधीन करके।
- (d) राज्यों की तुलना में स्थानीय सरकारों को अधिक शक्ति देकर।

13. नीचे दो कथन दिए गए हैं। ये **अभिकथन (A)** और **कारण (R)** हैं। दोनों कथनों को पढ़िए और सही विकल्प का चयन कीजिए :

अभिकथन (A) : बेल्जियम में फ्रेंच-भाषी समुदाय तुलनात्मक रूप से डच-भाषी समुदाय से ज्यादा समृद्ध था।

कारण (R) : डच-भाषी समुदाय को बहुत बाद में जाकर आर्थिक विकास और शिक्षा का लाभ मिला।

विकल्प :

- (a) दोनों, (A) और (R) सही हैं और (R), (A) की सही व्याख्या करता है।
- (b) दोनों, (A) और (R) सही हैं परन्तु (R), (A) की सही व्याख्या नहीं करता है।
- (c) (A) सही है, परन्तु (R) गलत है।
- (d) (A) गलत है, परन्तु (R) सही है।

14. स्तंभ-I का मिलान स्तंभ-II से कीजिए और सही विकल्प का चयन कीजिए : 1

स्तंभ-I (खनिज)	स्तंभ-II (विशेषता)
A. तांबा	(i) स्टील और पेंट के निर्माण में उपयोग
B. बॉक्साइट	(ii) विद्युत और इलेक्ट्रॉनिक उद्योगों में उपयोग
C. अभ्रक	(iii) बिजली के केबल और बर्तनों में उपयोग
D. मैंगनीज़	(iv) ऐलुमिनियम के उत्पादन में उपयोग

विकल्प :

- | | A | B | C | D |
|-----|-------|-------|-------|-------|
| (a) | (i) | (iii) | (iv) | (ii) |
| (b) | (ii) | (i) | (iii) | (iv) |
| (c) | (iv) | (ii) | (i) | (iii) |
| (d) | (iii) | (iv) | (ii) | (i) |





11. Which of the following is an example of horizontal power sharing in Indian democracy ?

1

- (a) Division of power between Central and State Governments.
- (b) Division of power between Rural and Urban Governments.
- (c) Division of power among Administration, Judiciary and Army.
- (d) Division of power among Legislative, Executive and Judiciary.

12. How does the Indian federal structure promote balance governance across the nation ? Choose the most suitable option from the following :

1

- (a) By allowing states to exercise complete autonomy on all issues.
- (b) By ensuring a division of power between centre and states.
- (c) By allowing all decision making processes under the Union Government.
- (d) By giving more powers to local governments in comparison to states.

13. Two statements are given below. They are **Assertion (A)** and **Reason (R)**. Read both the statements and choose the correct option :

Assertion (A) : The French speaking community was rich in comparison to Dutch speaking community in Belgium.

Reason (R) : Dutch speaking community got the benefit of economic development and education much later.

1

Options :

- (a) Both, (A) and (R) are correct and (R) is the correct explanation of (A).
- (b) Both, (A) and (R) are correct but (R) is **not** the correct explanation of (A).
- (c) (A) is correct but (R) is incorrect.
- (d) (A) is incorrect but (R) is correct.

14. Match **Column-I** with **Column-II** and choose the correct option :

1

Column-I (Minerals)	Column-II (Features)
A. Copper	(i) Used in manufacturing of steel and paints
B. Bauxite	(ii) Used in electric and electronic industries
C. Mica	(iii) Used in electric cables and utensils
D. Manganese	(iv) Used in aluminium production

Options :

- | | A | B | C | D |
|-----|-------|-------|-------|-------|
| (a) | (i) | (iii) | (iv) | (ii) |
| (b) | (ii) | (i) | (iii) | (iv) |
| (c) | (iv) | (ii) | (i) | (iii) |
| (d) | (iii) | (iv) | (ii) | (i) |





^

15. बॉक्स में दी गई जानकारी की सहायता से फसल की पहचान कीजिए।

1

- यह भारत की एक प्रमुख नकदी फसल है।
- इसकी खेती मुख्य रूप से कर्नाटक और तमिलनाडु राज्यों में की जाती है।
- इसे इसकी विशिष्ट सुगंध के लिए जाना जाता है।

विकल्प :

- (a) चाय (b) कॉफी
(c) जूट (d) कपास

16. एक शोधकर्ता एक मृदा के प्रकार की परख कर रहा है जो ज्वालामुखीय चट्टान के अपक्षय से बनी है और खनिजों में समृद्ध है। निम्नलिखित में से वह किस प्रकार की मृदा है ?

1

- (a) लैटेराइट मृदा
(b) जलोढ़ मृदा
(c) काली मृदा
(d) रेगिस्तानी मृदा

17. निम्नलिखित घटनाओं को कालक्रमानुसार व्यवस्थित कीजिए और सही विकल्प का चयन कीजिए :

1

- I. वियना की संधि
II. नेपोलियन युद्ध की शुरुआत
III. प्रशा के राजा विलियम प्रथम को जर्मन सम्राट घोषित करना
IV. विक्टर इमैनुयल द्वितीय को इटली का राजा घोषित करना

विकल्प :

- (a) I, III, IV और II (b) II, IV, I और III
(c) II, I, IV और III (d) III, II, IV और I

18. दिए गए चित्र को देखिए और निम्नलिखित विकल्पों में से इस चित्र के चित्रकार के नाम की पहचान कीजिए :

1

- (a) रबीन्द्रनाथ टैगोर
(b) अबनीन्द्रनाथ टैगोर
(c) देबीन्द्रनाथ टैगोर
(d) सत्येन्द्रनाथ टैगोर





^

15. Identify the crop with the help of information given in the box.

1

- This crop is a major cash crop in India.
- It is cultivated mainly in the states of Karnataka and Tamil Nadu.
- It is known for its aroma.

Options :

- (a) Tea (b) Coffee
(c) Jute (d) Cotton
16. A researcher is examining a soil type which is formed by the weathering of volcanic rock and is rich in minerals. Which one of the following soils is it ?

1

- (a) Laterite soil
(b) Alluvial soil
(c) Black soil
(d) Desert soil

17. Arrange the following events in the chronological order and choose the correct option :

1

- I. The Treaty of Vienna
II. The beginning of Napoleonic wars
III. Proclamation of the Prussian King William I as German Emperor
IV. Proclamation of Victor Emmanuel II as the King of Italy

Options :

- (a) I, III, IV and II (b) II, IV, I and III
(c) II, I, IV and III (d) III, II, IV and I
18. Look at the given picture and identify the name of the painter of this painting from the following options :

1



- (a) Rabindranath Tagore
(b) Abanindranath Tagore
(c) Debindranath Tagore
(d) Satyendranath Tagore



नोट : निम्नलिखित प्रश्न केवल दृष्टिबाधित परीक्षार्थियों के लिए प्रश्न संख्या 18 के स्थान पर है।

- 1930 में निम्नलिखित में से किसने 'दमित वर्ग एसोसिएशन' का गठन किया ? 1
- (a) बी.एल. यादव (b) सी.आर. दास
(c) एम.आर. जायकर (d) बी.आर. अम्बेडकर
19. ब्रिटिश ईस्ट इंडिया कम्पनी ने भारत में अपने हितों को बढ़ावा देने के लिए प्रिंट संस्कृति का उपयोग कैसे किया ? निम्नलिखित में से सही विकल्प का चयन कीजिए : 1
- (a) भारतीय समाचार पत्रों को प्रतिबंधित करके
(b) क्षेत्रीय भाषा के अखबारों को वित्तीय सहायता देकर
(c) स्वतंत्र प्रेस के विकास को प्रोत्साहित करके
(d) पूर्वी संस्कृति के प्रसार के लिए मुद्रण माध्यम का उपयोग करके
20. सिल्क मार्ग को पूर्व-आधुनिक व्यापार का एक अच्छा जीवंत उदाहरण क्यों माना जाता है ? निम्नलिखित में से सबसे उपयुक्त विकल्प का चयन कीजिए : 1
- (a) रेशम के सामानों की आवाजाही के कारण
(b) चाँदी और सोने के सामानों के प्रवाह के कारण
(c) चीन के आस्ट्रेलिया से जुड़ाव के कारण
(d) व्यापार और सांस्कृतिक आदान-प्रदान के कारण

खण्ड - ख

(अति लघु-उत्तरीय प्रकार के प्रश्न)

(4×2 = 8)

21. (A) “संसाधनों के विवेकपूर्ण उपयोग के लिए नियोजन एक सर्वमान्य रणनीति है।” इस कथन की व्याख्या कीजिए। 2
- अथवा
- (B) “मानव जीवन की गुणवत्ता बनाए रखने के लिए संसाधनों का समाज में न्यायसंगत बंटवारा आवश्यक है।” इस कथन की व्याख्या कीजिए। 2
22. नारीवादी आंदोलनों ने किस प्रकार सार्वजनिक जीवन में महिलाओं की भूमिका को बढ़ाने में सहायता की ? स्पष्ट कीजिए। 2
23. जीवन की गुणवत्ता के लिए सार्वजनिक सुविधाओं की भूमिका को स्पष्ट कीजिए। 2
24. यूरोपीय हस्तक्षेप से पहले भारतीय उपमहाद्वीप व्यापारिक नेटवर्क के लिए क्यों महत्वपूर्ण था ? स्पष्ट कीजिए। 2

खण्ड - ग

(लघु-उत्तरीय प्रकार के प्रश्न)

(5×3 = 15)

25. 1991 में लागू की गई व्यापार नीति ने भारत में वैश्वीकरण की प्रक्रिया को किस प्रकार उत्प्रेरित किया ? उदाहरण सहित स्पष्ट कीजिए। 3



Note: The following question is for the Visually Impaired Candidates only in lieu of Q. No. 18.

Who amongst the following organised the 'Depressed Class Association' in 1930 ?

1

- (a) B.L. Yadav (b) C.R. Das
(c) M.R. Jayeker (d) B.R. Ambedkar

19. How did the British East India Company use Print Culture to promote its interests in India ? Choose the correct option from the following :

1

- (a) By censoring the Indian newspapers
(b) By funding the regional language newspapers
(c) By encouraging the development of independent Press
(d) By using print media to spread eastern culture

20. Why was the silk route considered a good example of vibrant pre-modern trade ? Choose the most appropriate option from the following :

1

- (a) Due to movement of silk cargoes
(b) Due to flow of silver and gold
(c) Due to linkage of China with Australia
(d) Due to trade and cultural exchange

SECTION – B

(Very Short Answer Type Questions)

(4×2 = 8)

21. (A) "Planning is the widely accepted strategy for judicious use of resources." Explain the statement.

2

OR

(B) "An equitable distribution of resources has become essential for a sustained quality of human life." Explain the statement.

2

22. How did the feminist movements help to enhance the role of women in public life ? Explain.

2

23. Explain the role of public facilities for quality of life.

2

24. Why was the Indian subcontinent significant to trade networks before European intervention ? Explain.

2

SECTION – C

(Short Answer Type Questions)

(5×3 = 15)

25. How did the trade policy implemented in 1991 stimulated the globalization in India ? Explain with example .

3



26. (A) फ्रांसीसी क्रांतिकारियों द्वारा राष्ट्रीय एकता की भावना पैदा करने के लिए उठाए गए कदमों का वर्णन कीजिए। 3

अथवा

- (B) उन ऐतिहासिक कारकों का वर्णन कीजिए जिन्होंने बाल्कन में राष्ट्रवादी तनावों के उदय में योगदान दिया। 3
27. भारत में कृषि को लाभदायक बनाने के लिए सरकार द्वारा किए गए उपायों की परख कीजिए। 3
28. लोकतंत्र में विपक्ष की भूमिका को स्पष्ट कीजिए। 3
29. भारत में आर्थिक विकास को बढ़ावा देने में सरकारी नीतियों की भूमिका की परख कीजिए। 3

खण्ड - घ

(दीर्घ-उत्तरीय प्रकार के प्रश्न) (4×5 = 20)

30. (A) असहयोग आंदोलन में गाँधीजी की भूमिका की व्याख्या उदाहरणों सहित कीजिए। 5

अथवा

- (B) सविनय अवज्ञा आंदोलन भारत में किस प्रकार सभी समुदायों को एक साथ लाने में समर्थ रहा ? उदाहरणों सहित व्याख्या कीजिए। 5
31. (A) “भारत में बढ़ती ऊर्जा की मांग को पूरा करने के लिए सतत् पोषणीय मार्ग को विकसित करना लाभदायक होगा।” उपयुक्त तर्कों द्वारा इस कथन की पुष्टि कीजिए। 5

अथवा

- (B) “हमें अपने खनिजों के संरक्षण के लिए उनका सुनियोजित एवं सतत् पोषणीय ढंग से प्रयोग करना होगा।” उपयुक्त तर्कों द्वारा इस कथन की पुष्टि कीजिए। 5
32. (A) “लोकतंत्र लोगों को प्रजा से नागरिक बनाने की गवाही देता है।” इस कथन को उपयुक्त तर्कों सहित न्यायसंगत ठहराइये। 5

अथवा

- (B) “लोकतंत्र और विकास एक साथ चलते हैं।” इस कथन को उपयुक्त तर्कों द्वारा न्यायसंगत ठहराइये। 5
33. (A) ग्रामीण अर्थव्यवस्था में ऋण की भूमिका का विश्लेषण कीजिए। 5

अथवा

- (B) औपचारिक और अनौपचारिक ऋण के स्रोतों में अंतर का विश्लेषण कीजिए। 5



^

26. (A) Describe the steps taken by French revolutionaries to create a sense of national unity and belonging. 3

OR

- (B) Describe the historical factors that contributed to the emergence of nationalist tensions in the Balkans. 3

27. Examine the measures taken by the government to make agriculture profitable in India. 3

28. Explain the role of opposition in democracy. 3

29. Examine the role of government policies in promoting economic growth in India. 3

SECTION – D

(Long Answer Type Questions)

(4×5 = 20)

30. (A) Explain the role of Gandhiji in the Non-cooperation Movement with examples. 5

OR

- (B) How did the Civil Disobedience Movement able to bring all communities together in India ? Explain with examples. 5

31. (A) “It would be beneficial to develop sustainable way to meet the growing energy demand in India.” Support the statement by giving suitable arguments. 5

OR

- (B) “We have to use a planned and sustainable manner to conserve our minerals.” Support the statement by giving suitable arguments. 5

32. (A) “Democracy elevates humans from the status of subject to citizen.” Justify the statement with suitable arguments. 5

OR

- (B) “Democracy and Development go together.” Justify the statement with suitable arguments. 5

33. (A) Analyse the role of credit in rural economy. 5

OR

- (B) Analyse the differences between formal and informal sectors of credit. 5



**खण्ड - ड़****(केस-आधारित / स्रोत-आधारित प्रश्न)****(3×4 = 12)****34. निम्नलिखित स्रोत को पढ़िए और उसके नीचे दिए गए प्रश्नों के उत्तर लिखिए :****स्थानीय स्वशासन**

स्थानीय शासन का ढाँचा ज़िला स्तर तक का है। कई ग्राम पंचायतों को मिलाकर पंचायत समिति का गठन होता है। इसे मंडल या प्रखंड स्तरीय पंचायत भी कह सकते हैं। इसके सदस्यों का चुनाव उस इलाके के सभी पंचायत सदस्य करते हैं। किसी ज़िले की सभी पंचायत समितियों को मिलाकर ज़िला परिषद् का गठन होता है। ज़िला परिषद् के अधिकांश सदस्यों का चुनाव होता है। ज़िला परिषद् में उस ज़िले से लोक सभा और विधान सभा के लिए चुने गए सांसद और विधायक तथा ज़िला स्तर की संस्थाओं के कुछ अधिकारी भी सदस्य के रूप में होते हैं। ज़िला परिषद् का प्रमुख इस परिषद् का राजनीतिक प्रधान होता है।

इस प्रकार स्थानीय शासन वाली संस्थाएँ शहरों में भी काम करती हैं। शहरों में नगरपालिका होती है। बड़े शहरों में नगर निगम का गठन होता है। नगरपालिका और नगर निगम, दोनों का कामकाज निर्वाचित प्रतिनिधि करते हैं। नगरपालिका प्रमुख नगरपालिका के राजनीतिक प्रधान होते हैं। नगर निगम के ऐसे पदाधिकारी को मेयर कहते हैं।

स्थानीय सरकारों की यह नयी व्यवस्था दुनिया में लोकतंत्र का अब तक का सबसे बड़ा प्रयोग है।

- | | | |
|------|--|---|
| 34.1 | ग्राम पंचायतों और पंचायत समितियों के बीच संबंधों को स्पष्ट कीजिए। | 1 |
| 34.2 | नगर निगम की संरचना नगरपालिका से किस प्रकार भिन्न है ? | 1 |
| 34.3 | स्थानीय सरकार की संरचना लोकतंत्र को कैसे बढ़ावा देती है ? परख कीजिए। | 2 |

35. निम्नलिखित स्रोत को पढ़िए और नीचे दिए गए प्रश्नों के उत्तर लिखिए :**प्रकाशन के नए रूप**

उन्नीसवीं सदी के अंत तक, एक नयी तरह की दृश्य-संस्कृति भी आकार ले रही थी। छापेखानों की बढ़ती तादाद के साथ छवियों की कई प्रतियाँ अब बड़ी आसानी से बनाई जा सकती थीं। राजा रवि वर्मा जैसे चित्रकारों ने आम खपत के लिए तसवीरें बनाईं। काठ की तख्ती पर चित्र उकेरने वाले ग़रीब दस्तकारों ने लेटरप्रेस छापेखानों के करीब अपनी दुकानें लगाईं और मुद्रकों से काम पाने लगे। बाज़ार में सुलभ सस्ती तसवीरें और कैलेंडर खरीदकर ग़रीब भी अपने घरों एवं दफ़्तरों में सजाया करते थे। इन छपी तसवीरों ने आहिस्ता-आहिस्ता आधुनिकता और परंपरा, धर्म और राजनीति तथा समाज और संस्कृति के लोकप्रिय विचार-लोक को गढ़ना शुरू किया।

**SECTION – E****(Case-based / Source-based Questions)****(3×4 = 12)**

34. Read the following source and answer the questions that follow :

Local Self Government

The local government structure goes right up to the district level. A few gram panchayats are grouped together to form what is usually called a panchayat samiti or block or mandal. The members of this representative body are elected by all the panchayat members in that area. All the panchayat samitis or mandals in a district together constitute the zilla (district) parishad. Most members of the zilla parishad are elected. Members of the Lok Sabha and MLAs of that district and some other officials of other district level bodies are also its members. Zilla parishad chairperson is the political head of the zilla parishad.

Similarly, local government bodies exist for urban areas as well. Municipalities are set up in towns. Big cities are constituted into municipal corporations. Both municipalities and municipal corporations are controlled by elected bodies consisting of people's representatives. Municipal chairperson is the political head of the municipality. In a municipal corporation, such an officer is called the mayor.

This new system of local government is the largest experiment in democracy conducted anywhere in the world.

- 34.1 Explain the relationship between gram panchayats and panchayat samitis. 1
- 34.2 How is the structure of municipal corporation different from municipality ? 1
- 34.3 How does the local government structure promote democracy ? Examine. 2

35. Read the source given below and answer the questions that follow :

New Forms of Publication

By the end of the nineteenth century, a new visual culture was taking shape. With the setting up of an increasing number of printing presses, visual images could be easily reproduced in multiple copies. Painters like Raja Ravi Varma produced images for mass circulation. Poor wood engravers who made woodblocks set up shop near the letterpresses, and were employed by print shops. Cheap prints and calendars, easily available in the bazaar, could be bought even by the poor to decorate the walls of their homes or places of work. These prints began shaping popular ideas about modernity and tradition, religion and politics, and society and culture.





1870 के दशक तक पत्र-पत्रिकाओं में सामाजिक-राजनीतिक विषयों पर टिप्पणी करते हुए कैरिकेचर और कार्टून छपने लगे थे। कुछ में शिक्षित भारतीयों की पश्चिमी पोशाक और पश्चिमी अभिरुचियों का मज़ाक उड़ाया गया, जबकि कुछ अन्य में सामाजिक परिवर्तन को लेकर एक डर देखा गया। साम्राज्यवादी व्यंग्यचित्रों में राष्ट्रवादियों का मज़ाक उड़ाया जाता था, तो राष्ट्रवादी भी साम्राज्यवादी सत्ता पर निशाना साधने में पीछे नहीं रहे।

- 35.1 प्रिंटिंग तकनीक के विकास ने दृश्य संस्कृति को कैसे प्रभावित किया ? 1
- 35.2 राजा रवि वर्मा ने भारत में कला के सामूहिक प्रसार में कैसे योगदान दिया ? 1
- 35.3 दृश्य संस्कृति ने 19वीं शताब्दी के अंत में सामाजिक परिदृश्य की स्मृति को कैसे आकार दिया ? स्पष्ट कीजिए। 2

36. निम्नलिखित स्रोत को पढ़िए और उसके नीचे दिए गए प्रश्नों के उत्तर लिखिए :

पवित्र पेड़ों के झुरमुट – विविध और दुर्लभ जातियों की संपत्ति

प्रकृति की पूजा सदियों पुराना जनजातीय विश्वास है, जिसका आधार प्रकृति के हर रूप की रक्षा करना है। इन्हीं विश्वासों ने विभिन्न वनों को मूल एवं कौमार्य रूप में बचाकर रखा है, जिन्हें पवित्र पेड़ों के झुरमुट (देवी-देवताओं के वन) कहते हैं। इन वन खंडों या बड़े वन के भागों को स्थानीय लोगों द्वारा अछूता छोड़ दिया गया है तथा इनमें किसी भी प्रकार का हस्तक्षेप प्रतिबंधित है।

कुछ समाज कुछ विशेष पेड़ों की पूजा करते हैं और आदिकाल से उनका संरक्षण करते आ रहे हैं। छोटानागपुर क्षेत्र में मुंडा और संथाल जनजातियाँ महुआ और कदंब के पेड़ों की पूजा करते हैं। ओडिशा और बिहार की जनजातियाँ शादी के दौरान इमली और आम के पेड़ की पूजा करती हैं। हममें से बहुत से व्यक्ति पीपल और वटवृक्ष को पवित्र मानते हैं।

भारतीय समाज में अनेकों संस्कृतियाँ हैं और प्रत्येक संस्कृति में प्रकृति और इसकी कृतियों को संरक्षित करने के अपने पारंपरिक तरीके हैं। आमतौर पर झरनों, पहाड़ी चोटियों, पेड़ों और पशुओं को पवित्र मानकर उनका संरक्षण किया जाता है। आप अनेक मंदिरों के आसपास बंदर और लंगूर पाएँगे। उपासक उन्हें खिलाते-पिलाते हैं और मंदिर के भक्तों में गिनते हैं। राजस्थान में बिश्नोई गाँवों के आसपास आप काले हिरण, चिंकारा, नीलगाय और मोरों के झुंड देख सकते हैं जो वहाँ के समुदाय का अभिन्न हिस्सा हैं और कोई उनको नुकसान नहीं पहुँचाता।

- 36.1 पवित्र वन, आध्यात्मिकता और पारिस्थितिकी के आपसी संबंध को कैसे दर्शाते हैं ? 1
- 36.2 जनजातियों की प्रथाएं वन संरक्षण को कैसे बढ़ावा देती हैं ? 1
- 36.3 वन्य जीव संरक्षण हम सबके लिए महत्वपूर्ण क्यों है ? व्याख्या कीजिए। 2





By the 1870s, caricatures and cartoons were being published in journals and newspapers, commenting on social and political issues. Some caricatures ridiculed the educated Indians' fascination with Western tastes and clothes, while others expressed the fear of social change. There were imperial caricatures lampooning nationalists, as well as nationalist cartoons criticising imperial rule.

- 35.1 How did the development of printing technology impact visual culture ? 1
- 35.2 How did Raja Ravi Varma contribute to the mass circulation of art in India ? 1
- 35.3 How did visual culture shape the memory of the 19th century social landscape ? Explain. 2

36. Read the given source and answer the questions that follow :

Sacred Groves – a wealth of diverse and rare species

Nature worship is an age old tribal belief based on the premise that all creations of nature have to be protected. Such beliefs have preserved several virgin forests in pristine form called Sacred Groves (the forests of God and Goddesses). These patches of forest or parts of large forests have been left untouched by the local people and any interference with them is banned.

Certain societies revere a particular tree which they have preserved from time immemorial. The Mundas and the Santhal of Chota Nagpur region worship mahua (*Bassia latifolia*) and kadamba (*Anthocaphalus cadamba*) trees, and the tribals of Odisha and Bihar worship the tamarind (*Tamarindus indica*) and mango (*Mangifera indica*) trees during weddings. To many of us, peepal and banyan trees are considered sacred.

Indian society comprises several cultures, each with its own set of traditional methods of conserving nature and its creations. Sacred qualities are often ascribed to springs, mountain peaks, plants and animals which are closely protected. You will find troops of macaques and langurs around many temples. They are fed daily and treated as a part of temple devotees. In and around Bishnoi villages in Rajasthan, herds of blackbuck (chinkara), nilgai and peacocks can be seen as an integral part of the community and nobody harms them.

- 36.1 How do sacred groves show the inter-connectivity of spirituality and ecology ? 1
- 36.2 How do tribal practices promote conservation of forests ? 1
- 36.3 Why is conservation of wildlife important for all of us ? Explain. 2



**खण्ड – च****(मानचित्र कौशल आधारित प्रश्न)****(2+3 = 5)**

37. (i) दिए गए भारत के राजनीतिक रेखा-मानचित्र पर दो स्थान (A) और (B) के रूप में अंकित किए गए हैं। निम्नलिखित जानकारी की सहायता से उन्हें पहचानिए और उनके सही नाम उनके समीप खींची गई रेखाओं पर लिखिए :

- (a) वह स्थान जहाँ भारतीय राष्ट्रीय कांग्रेस का अधिवेशन 1927 में हुआ। 1
- (b) वह स्थान जहाँ गाँधीजी ने नमक कानून तोड़ा। 1

नोट : निम्नलिखित प्रश्न केवल दृष्टिबाधित परीक्षार्थियों के लिए प्रश्न संख्या 37(i) के स्थान पर है।

- (a) उस स्थान का नाम लिखिए जहाँ भारतीय राष्ट्रीय कांग्रेस का अधिवेशन 1927 में हुआ। 1
- (b) उस स्थान का नाम लिखिए जहाँ गाँधीजी ने नमक कानून तोड़ा। 1

37. (ii) भारत के इसी राजनीतिक रेखा-मानचित्र पर निम्नलिखित में से **किन्हीं तीन** को उपयुक्त चिह्नों से दर्शाइये और उनके नाम लिखिए :

- (a) चेनाब नदी पर बना एक प्रमुख बाँध। 1
- (b) उत्तर प्रदेश स्थित एक परमाणु ऊर्जा संयंत्र। 1
- (c) कर्नाटक स्थित एक प्रमुख सॉफ्टवेयर प्रौद्योगिकी पार्क। 1
- (d) ओडिशा स्थित एक प्रमुख समुद्री पत्तन। 1

नोट : निम्नलिखित प्रश्न केवल दृष्टिबाधित परीक्षार्थियों के लिए प्रश्न संख्या 37(ii) के स्थान पर हैं।

किन्हीं तीन प्रश्नों के उत्तर लिखिए :

- (a) उस स्थान का नाम लिखिए जहाँ चेनाब नदी पर एक प्रमुख बाँध स्थित है। 1
- (b) उस स्थान का नाम लिखिए जहाँ उत्तर प्रदेश में एक परमाणु ऊर्जा संयंत्र स्थित है। 1
- (c) उस स्थान का नाम लिखिए जहाँ कर्नाटक में एक प्रमुख सॉफ्टवेयर प्रौद्योगिकी पार्क स्थित है। 1
- (d) उस स्थान का नाम लिखिए जहाँ ओडिशा में एक प्रमुख समुद्री पत्तन स्थित है। 1



SECTION – F
(Map Skill Based Question)

(2+3 = 5)

37. (i) Two places **(A)** and **(B)** have been marked on the given political outline map of India. Identify them with the help of the following information and write their correct names on the lines drawn near them :

- (a) The place where the Session of Indian National Congress was held in 1927. 1
- (b) The place where Gandhiji broke the Salt Law. 1

Note : The following questions are for the Visually Impaired Candidates only in lieu of Q. No. 37(i).

- (a) Name the place where the Session of Indian National Congress was held in 1927. 1
- (b) Name the place where Gandhiji broke the Salt Law. 1

37. (ii) On the same political outline map of India, locate and label **any three** of the following with suitable symbols :

- (a) A major dam on the Chenab river. 1
- (b) Nuclear Power Plant located in Uttar Pradesh. 1
- (c) A major Software Technology Park located in Karnataka. 1
- (d) A major Sea Port located in Odisha. 1

Note : The following questions are for the Visually Impaired Candidates only in lieu of Q. No. 37(ii).

Attempt **any three** questions :

- (a) Name the place where the major dam is located on the Chenab river. 1
- (b) Name the place where Nuclear Power Plant is located in Uttar Pradesh. 1
- (c) Name the place where a major Software Technology Park is located in Karnataka. 1
- (d) Name the place where a major Sea Port is located in Odisha. 1





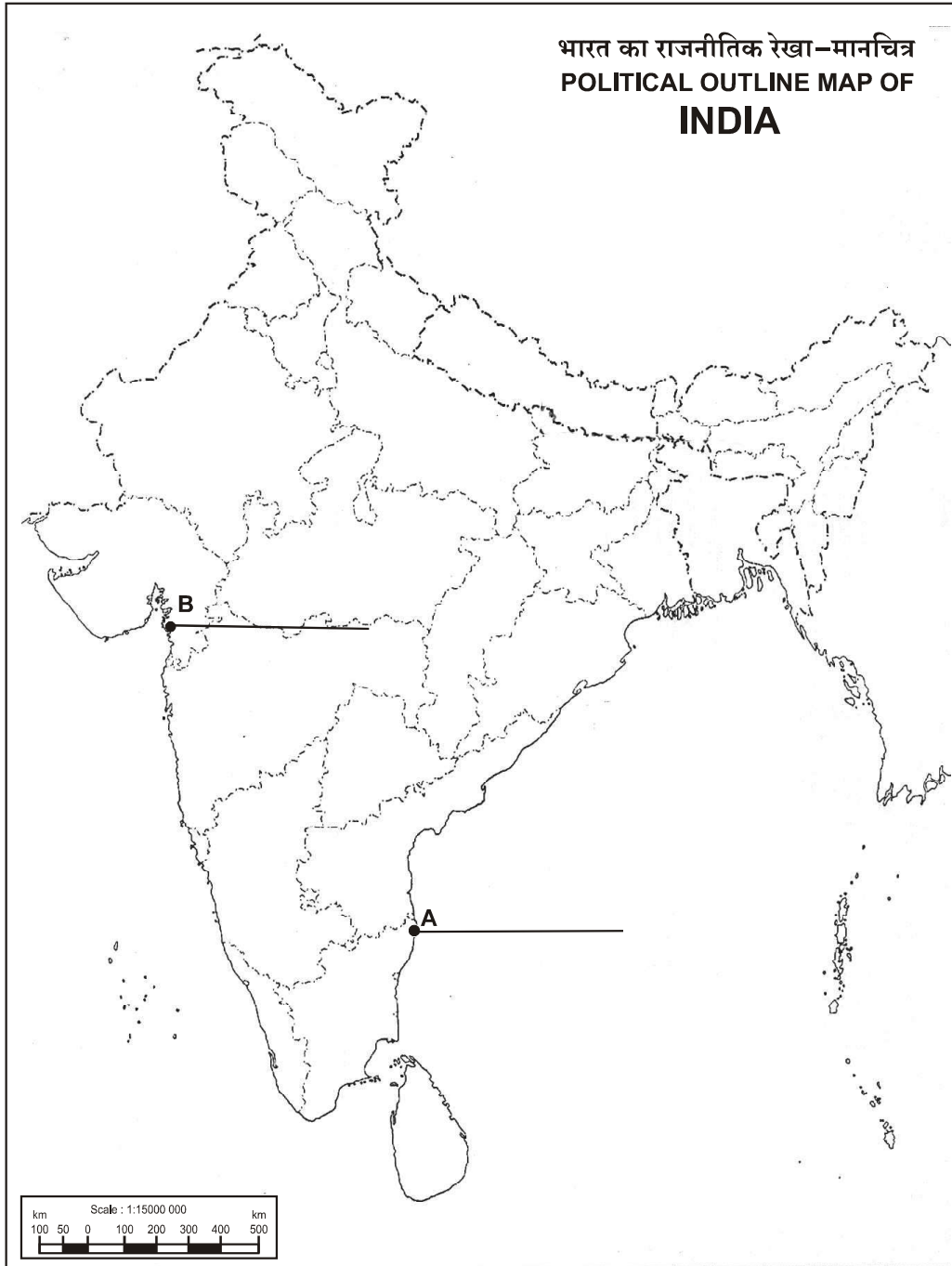


^

प्रश्न संख्या 37 के लिए मानचित्र

Map for Q. No. 37

..... ✂ Cut Here यहाँ से काटें ✂ Cut Here यहाँ से काटें ✂ Cut Here यहाँ से काटें





Marking Scheme
Strictly Confidential
(For Internal and Restricted use only)
Secondary School Examination February- 2025
SUBJECT NAME: Social Science SUBJECT CODE 087 PAPER CODE 32/4/2

General Instructions: -

1. You are aware that evaluation is the most important process in the actual and correct assessment of the candidates. A small mistake in evaluation may lead to serious problems which may affect the future of the candidates, education system and teaching profession. To avoid mistakes, it is requested that before starting evaluation, you must read and understand the spot evaluation guidelines carefully.
2. **“Evaluation policy is a confidential policy as it is related to the confidentiality of the examinations conducted, Evaluation done and several other aspects. Its’ leakage to public in any manner could lead to derailment of the examination system and affect the life and future of millions of candidates. Sharing this policy/document to anyone, publishing in any magazine and printing in News Paper/Website etc may invite action under various rules of the Board and IPC.”**
3. Evaluation is to be done as per instructions provided in the Marking Scheme. It should not be done according to one’s own interpretation or any other consideration. Marking Scheme should be strictly adhered to and religiously followed. **However, while evaluating, answers which are based on latest information or knowledge and/or are innovative, they may be assessed for their correctness otherwise and due marks be awarded to them. In Class-X, while evaluating two competency-based questions, please try to understand given answer and even if reply is not from marking scheme but correct competency is enumerated by the candidate, due marks should be awarded.**
4. The Marking scheme carries only suggested value points for the answers. These are in the nature of Guidelines only and do not constitute the complete answer. The students can have their own expression and if the expression is correct, the due marks should be awarded accordingly.
5. The Head-Examiner must go through the first five answer books evaluated by each evaluator on the first day, to ensure that evaluation has been carried out as per the instructions given in the Marking Scheme. If there is any variation, the same should be zero after deliberation and discussion. The remaining answer books meant for evaluation shall be given only after ensuring that there is no significant variation in the marking of individual evaluators.
6. Evaluators will mark(✓) wherever answer is correct. For wrong answer CROSS ‘X’ be marked. Evaluators will not put right (✓)while evaluating which gives an impression that answer is correct and no marks are awarded. **This is most common mistake which evaluators are committing.**
7. If a question has parts, please award marks on the right-hand side for each part. Marks awarded for different parts of the question should then be totaled up and written in the left-hand margin and encircled. This may be followed strictly.
8. If a question does not have any parts, marks must be awarded in the left-hand margin and encircled. This may also be followed strictly.
9. If a student has attempted an extra question, answer of the question deserving more marks should be retained and the other answer scored out with a note **“Extra Question”**.
10. No marks to be deducted for the cumulative effect of an error. It should be penalized only once.
11. A full scale of marks _____80_____ (example 0 to 80/70/60/50/40/30 marks as given in Question Paper) has to be used. Please do not hesitate to award full marks if the answer deserves it.
12. Every examiner has to necessarily do evaluation work for full working hours i.e., 8 hours every day and evaluate 20 answer books per day in main subjects and 25 answer books per day in other subjects (Details are given in Spot Guidelines).



13.	<p>Ensure that you do not make the following common types of errors committed by the Examiner in the past:- Giving more marks for an answer than assigned to it.</p> <ul style="list-style-type: none"> ● Wrong totaling of marks awarded on an answer. ● Wrong transfer of marks from the inside pages of the answer book to the title page. <p>Wrong question wise totaling on the title page.</p> <ul style="list-style-type: none"> ● Leaving answer or part thereof unassessed in an answer book. ● Wrong totaling of marks of the two columns on the title page. ● Wrong grand total. ● Marks in words and figures not tallying/not same. ● Wrong transfer of marks from the answer book to online award list. ● Answers marked as correct, but marks not awarded. (Ensure that the right tick mark is correctly and clearly indicated. It should merely be a line. Same is with the X for incorrect answer.) ● Half or a part of answer marked correct and the rest as wrong, but no marks awarded.
14.	While evaluating the answer books if the answer is found to be totally incorrect, it should be marked as cross (X) and awarded zero (0) Marks.
15.	Any un assessed portion, non-carrying over of marks to the title page, or totaling error detected by the candidate shall damage the prestige of all the personnel engaged in the evaluation work as also of the Board. Hence, in order to uphold the prestige of all concerned, it is again reiterated that the instructions be followed meticulously and judiciously.
16.	The Examiners should acquaint themselves with the guidelines given in the “ Guidelines for spot Evaluation ” before starting the actual evaluation.
17.	Every Examiner shall also ensure that all the answers are evaluated, marks carried over to the title page, correctly totaled and written in figures and words.
18.	The candidates are entitled to obtain photocopy of the Answer Book on request on payment of the prescribed processing fee. All Examiners/Additional Head Examiners/Head Examiners are once again reminded that they must ensure that evaluation is carried out strictly as per value points for each answer as given in the Marking Scheme.



Marking Scheme
Class X -Social Science (087)
SET-32/4/2

SET -2

MM-80

Q.No	Values Points	Page No.	Marks-
	SECTION- A (Multiple Choice Questions)		(20x1=20)
1.	(c) Only (i), (ii) and (iv) are correct.	5 E	1
2.	(c) Enhanced connectivity	63 E	1
3.	(a) (i) and (iii) are correct.	48 E	1
4.	(c) Nature of production activities	20 E	1
5.	(d) Doctor, Teacher, Lawyer	20 E	1
6.	(a) Per Capita Income	8 E	1
7.	(a) A	13 E	1
8.	(c) 1992	24 P	1
9.	(b) Citizens feel empowered to determine policies.	64 P	1
10.	(d) Biju Janta Dal - Odisha	56 P	1
11.	(d) Division of power among Legislative, Executive and Judiciary.	8 P	1
12.	(b) By ensuring a division of power between centre and states.	16 P	1
13.	(a) Both (A) and (R) are true and (R) is the correct explanation of (A).	2 P	1
14.	(d) (iii), (iv), (ii) and (i)	45-47 G	1
15.	(b) Coffee	37 G	1
16.	(c) Black soil	7 G	1
17.	(c) II, I, IV and III	10- 21H	1
18.	(b) Abanindranath Tagore <i>Note: The following questions are for the Visually Impaired Candidates only, in lieu of Question No.3.</i> (d) B. R. Ambedkar	47 H 44 H	1
19.	(a) By censoring the Indian newspapers	127 H	1
20.	(d) Due to trade and cultural exchange	54 H	1



	SECTION- B (Very Short Answer Type Questions)		(4x2=8)
21.	<p>(A) “Planning is the widely accepted strategy for judicious use of resources.” Explain the statement.</p> <p>(i) Planning is important for a country which has enormous diversity in the availability of resources.</p> <p>(ii) It is important for regions which are rich in certain types of resources but are deficient in some other resources.</p> <p>(iii) Planning helps in balanced distribution of resources across national, state and regional levels.</p> <p>(iv) Planning helps in sustainable development.</p> <p>(v) Any other relevant point.</p> <p>Any two points to be explained.</p> <p>OR</p> <p>(B) “An equitable distribution of resources has become essential for a sustained quality of human life.” Explain the statement.</p> <p>(i) Sustainable existence is a component of sustainable development.</p> <p>(ii) If the present trend of resource depletion by a few individuals and countries continue the future of our planet will be in danger.</p> <p>(iii) There is a dire need to address economic and environmental protection plans.</p> <p>(iv) Uneven distribution of resources will create a wide gap in regional development resulting in disunity in a nation.</p> <p>(v) Resource planning is essential for sustainable existence of all forms of life.</p> <p>(vi) Appropriate technology, skill and institutional set up is required for resource development and distribution.</p> <p>(vii) Judicious use of resources with qualitative and quantitative estimates is necessary.</p> <p>(viii) Any other relevant point.</p> <p>Any two points to be explained.</p>	3 G	(2x1=2)
		3 G	(2x1=2)



22.	<p>How did the feminist movements help to enhance the role of women in public life? Explain.</p> <ul style="list-style-type: none"> (i) Feminist movements support equal rights and opportunities for both men and women. (ii) Encouragement given to women to increase participation in public life. (iii) Feminist movements have enhanced legal status of women. (iv) Women are working as scientists, engineers, doctors etc. (v) Promotion of Equal Pay for Equal Work has helped to improve the position of women. (vi) Improved educational and career opportunities have increased women's participation in public life. (vii) Any other relevant point. <p style="text-align: center;">Any two points to be explained.</p>	30-31 P	(2x1=2)
23.	<p>Explain the role of public facilities for quality of life.</p> <ul style="list-style-type: none"> (i) Public facilities are provided by the government. (ii) Increased investment by the government in health will improve the wellbeing of the citizens. (iii) Providing quality education, (particularly elementary education) will help to develop human resources. (iv) Providing safe drinking water will provide good health. (v) Housing facilities for the poor will improve basic living conditions. (vi) Providing safe and good transport facilities will contribute to improved economic activities. (vii) Any other relevant point. <p style="text-align: center;">Any two points to be explained</p>	34 E	(2x1=2)
24.	<p>Why was the Indian subcontinent significant to trade networks before European intervention? Explain.</p> <ul style="list-style-type: none"> (i) The Indian subcontinent was located along major trade routes like the Silk Route connecting east and west. (ii) It was central to trade networks. (iii) It connected the trade routes through land and sea. (iv) Pottery from China, spices and textiles from India and Southeast Asia were transported along these routes. (v) It helped in exchange of goods, people, knowledge, customs etc. 	55 H	(2x1=2)



	<p>(vi) Thus, India lay at the centre of the trade network between these continents and participated in this trade.</p> <p>(vii) Any other relevant point.</p> <p>Any two points to be explained.</p>		
	<p>SECTION- C</p> <p>(Short Answer Type Questions)</p>		(5x3=15)
25.	<p>How did the trade policy implemented in 1991 stimulated the globalization in India? Explain with examples.</p> <p>(i) Removal of barriers on foreign trade giving businesses opportunities to import and export.</p> <p>(ii) Encouraging investments by MNCs.Example, cell phones, automobiles, soft drinks, fast food etc.</p> <p>(iii) Encouraging Indian companies to compete with producers around the globe.</p> <p>(iv) Encouraging Indian companies to collaborate with foreign companies which has enabled some large Indian companies to become multi nationals themselves. Examples. Tata Motors and Infosys</p> <p>(v) Improving infra structure and developing policies to attract foreign investment. Example, Special Economic Zones.</p> <p>(vi) It has created new opportunities for companies providing services. Example, IT.</p> <p>(vii) Any other relevant point.</p> <p>Any three points to be explained.</p>	64 E	(3x1=3)
26.	<p>(A) Describe the steps taken by French revolutionaries to create a sense of national unity and belonging.</p> <p>(i) Ideas of “la patrie” (the fatherland) and “le citoyen” (the citizen)</p> <p>(ii) A new tricolour replaced the former royal standard.</p> <p>(iii) The Estate General body was renamed as the National Assembly.</p> <p>(iv) New hymns were composed, oaths were taken and martyrs commemorated in the name of the nation.</p> <p>(v) A centralized administrative system was introduced.</p> <p>(vi) Uniform laws for all citizens.</p> <p>(vii) Internal custom duties and dues abolished.</p> <p>(viii) Introduction of uniform system of weights and measures adopted.</p>	5 H	(3x1=3)



	<p>(ix) Regional dialects replaced by French spoken in Paris.</p> <p>(x) Any other relevant point.</p> <p style="text-align: center;">Any three points to be described.</p> <p style="text-align: center;">OR</p> <p>(B) Describe the historical factors that contributed to the emergence of nationalist tensions in the Balkans.</p> <p>(i) Balkans was a region of geographical and ethnic variation.</p> <p>(ii) Large part of the Balkans was under the control of the Ottoman Empire.</p> <p>(iii) Ideas of romantic nationalism and the disintegration of the Ottoman Empire made the region explosive.</p> <p>(iv) The Ottomans failed in their attempts to modernize through internal reforms.</p> <p>(v) The European nationalists broke away from Ottoman control and declared their independence.</p> <p>(vi) The Balkan people claimed their independence and political rights on nationality proving that they had once been independent.</p> <p>(vii) The Balkan area became one of intense conflict when every Balkan nation sought to expand its territory at the cost of the other.</p> <p>(viii) Matters became worse due to Big Power rivalry in this region.</p> <p>(ix) Any other relevant point.</p> <p style="text-align: center;">Any three points to be described.</p>	26 H	(3x1=3)
27.	<p>Examine the measures taken by the government to make agriculture profitable in India.</p> <p>(i) Land reforms in the 1980s and 1990s included institutional and technical reforms.</p> <p>(ii) Provisions for crop insurance against drought, flood, cyclone, fire and disease were introduced.</p> <p>(iii) Establishment of Grameen banks and cooperative societies for providing loans at lower rates of interest.</p> <p>(iv) Initiative taken by the government to provide Kisan Credit Card (KCC)</p> <p>(v) Personal Accident Insurance Scheme (PAIS) introduced by the government.</p> <p>(vi) Special weather bulletins and agricultural programmes for farmers on radio and TV.</p>	39 G	(3x1=3)



	<p>(vii) Announcement of MSP, remunerative and procurement prices for important crops by the government.</p> <p>(viii) Any other relevant point.</p> <p>Any three points to be examined.</p>		
28.	<p>Explain the role of the opposition in democracy.</p> <p>(i) The parties that lose elections forms the opposition.</p> <p>(ii) They voice different views.</p> <p>(iii) Criticize government for its failures.</p> <p>(iv) They protest against wrong policies.</p> <p>(v) Mobilise public opinion against the government.</p> <p>(vi) Any other relevant point.</p> <p>Any three points to be explained.</p>	49 P	(3x1=3)
29.	<p>Examine the role of the government in promoting economic growth in India?</p> <p>(i) Encouraging development of infrastructure.</p> <p>(ii) Providing subsidies on various goods.</p> <p>(iii) Increasing investment in public facilities.</p> <p>(iv) Adopting policies like liberalization and globalization.</p> <p>(v) Adopting policies to promote industries in rural and semi-rural areas.</p> <p>(vi) Special poverty eradication and employment generation schemes like MNREGA.</p> <p>(vii) Supporting startups.</p> <p>(viii) Promoting easy access to formal loans.</p> <p>(ix) Investing more on the development of various skill training programmes.</p> <p>(x) Any other relevant point.</p> <p>Any three points to be examined.</p>	<p>28 E</p> <p>42 E</p> <p>56-63 E</p>	(3x1=3)
	<p>SECTION- D</p> <p>(Long Answer Type Questions)</p>		(4x5=20)
30.	<p>(A) Explain the role of Gandhiji in the Non-Cooperation Movement with examples.</p> <p>(i) Gandhiji's idea of non-cooperation stems from his idea of not cooperating with the British as mentioned in Hind Swaraj.</p> <p>(ii) Gandhiji wanted the movement to unfold in stages.</p> <p>(iii) Surrender of titles awarded by the British government.</p>	<p>32-33 H</p>	(5x1=5)



	<p>(iv) Boycott of British services like boycott of civil services, army, police, courts, schools and legislative councils</p> <p>(v) Boycott of British goods and promotion of Indian goods like khadi.</p> <p>(vi) Launching of a full civil disobedience campaign in the face of repression.</p> <p>(vii) Gandhiji's support to the Khilafat agitation united Hindus and Muslims.</p> <p>(viii) Gandhiji played a role in the adoption of the non-cooperation programme at the Congress session held at Nagpur.</p> <p>(ix) Participation of the middleclass in towns and cities following Gandhiji's call.</p> <p>(x) Participation of peasants, tribals and plantation workers in the name of Gandhiji.</p> <p>(xi) Gandhiji's call for non-cooperation united Indians from different communities to rise up against colonial rule.</p> <p>(xii) Any other relevant point.</p> <p style="text-align: center;">Any five points to be explained.</p> <p style="text-align: center;">OR</p> <p>(B) How did the Civil Disobedience Movement able to bring all communities together in India? Explain with examples.</p> <p>(i) Rejection of 11 demands in the letter written by Gandhiji to Viceroy, Lord Irwin brought people together.</p> <p>(ii) Taking up the cause of the salt tax united communities across India as salt was a commodity consumed by the rich and poor alike.</p> <p>(iii) Dandi March initiated to break the Salt law.</p> <p>(iv) Started with 78 volunteers and was joined by thousands.</p> <p>(v) Breaking of salt laws by thousands of people.</p> <p>(vi) Participation of forest people who violated forest laws.</p> <p>(vii) Peasants refused to pay <i>chowkidari</i> taxes.</p> <p>(viii) Participation of rich peasants (patidars and jats).</p> <p>(ix) Participation of poor peasants.</p> <p>(x) Participation by Indian industrialists.</p> <p>(xi) Participation by workers.</p> <p>(xii) Large scale participation of women.</p> <p>(xiii) Any other relevant point.</p> <p style="text-align: center;">Any five points to be explained.</p>	<p style="text-align: center;">39-43</p> <p style="text-align: center;">H</p>	<p style="text-align: center;">(5x1=5)</p>
--	--	---	---



31.	<p>(A) “It would be beneficial to develop sustainable way to meet the growing energy demand in India.” Support the statement by giving suitable arguments.</p> <ul style="list-style-type: none"> (i) Energy is the basic requirement for economic development. (ii) Every sector like agriculture, industry, transport, commercial and domestic- needs inputs of energy. (iii) Consumption of energy in all forms has been steadily rising all over the country. (iv) Promotion of energy conservation and increased use of renewable energy sources are the twin planks of sustainable energy. (v) Need of the hour to develop a sustainable path of energy development through use of energy efficient programmes. (vi) Public awareness campaigns to promote the idea of energy conservation. (vii) Cautious approach to the judicious use of limited energy resources. (viii) Use of non-conventional sources of energy like solar, wind and geo-thermal. (ix) Adopting small steps to save energy like use of public transport, switching of electricity when not in use, using power saving devices etc. (x) Any other relevant point. <p style="text-align: center;">Any five arguments to be explained.</p> <p style="text-align: center;">OR</p> <p>(B) “We have to use a planned and sustainable manner to conserve our minerals.” Support the statement by giving suitable arguments.</p> <ul style="list-style-type: none"> (i) Mineral resources are finite and non-renewable. (ii) Example, coal and iron ore which will take millions of years to be created and concentrated. (iii) High dependence of industry and agriculture on mineral deposits. (iv) Replenishment of used resources is a time-consuming process. (v) Judicious use of mineral resources is the need of the hour. (vi) Improving technology to allow the use of low-grade ores at low cost. (vii) Reusing of metals. (viii) Enforcement of stricter regulations of environmental laws. (ix) Any other relevant point. <p style="text-align: center;">Any five arguments to be explained.</p>	55 G	(5x1=5)
32.	<p>(A) “Democracy elevates humans from the status of subject to citizen.” Justify the statement with suitable arguments.</p>	72 P	(5x1=5)



	<p>(i) Democratic principles allow people to come up with more expectations.</p> <p>(ii) Freedom of expression to show dissatisfaction with democracy indicates the transformation of people from the status of a subject into that of a citizen.</p> <p>(iii) Democracy promotes equality among citizens.</p> <p>(iv) It enhances dignity of citizens.</p> <p>(v) It improves the quality of decision making.</p> <p>(vi) It provides methods to resolve conflicts.</p> <p>(vii) It allows room to correct mistakes.</p> <p>(viii) Complaints by people about outcomes of democracy is itself a testimony to its success.</p> <p>(ix) Any other relevant point.</p> <p style="text-align: center;">Any five points to be justified.</p> <p style="text-align: center;">OR</p> <p>(B) “Democracy and development go together.” Justify the statement with suitable arguments.</p> <p>(i) Democracies encourage power sharing, thus giving every citizen a voice in governance.</p> <p>(ii) The policy of decentralization adopted by democracies ensure development of the whole nation.</p> <p>(iii) Democracies stand for dignity and freedom of the citizens which encourages them to contribute to the growth of the nation.</p> <p>(iv) Accommodation of diversity ensures harmony in the nation leading to development.</p> <p>(v) Equality being one of the basic principles of democracies results in economic growth.</p> <p>(vi) The policies of globalization and liberalization adopted by democracies have encouraged international trade leading to progress.</p> <p>(vii) Any other relevant point.</p> <p style="text-align: center;">Any five points to be justified.</p>		
33.	(A) Analyse the role of credit in rural economy.	43E	(5x1=5)



- (i) Important for economic growth and development of rural economy.
- (ii) Encourages farmers to invest in non-agricultural activities.
- (iii) Supports the farmer to modernize agricultural practices.
- (iv) Increases production of agricultural output.
- (v) Helps to manage ongoing expenses.
- (vi) Can put a farmer in a debt trap.
- (vii) Any other relevant point

Any five points to be analysed.

OR

(B) Analyse the differences between formal and informal sectors of credit.

**42-49
E**

(5x1=5)

Formal Sources of Credit	Informal Sources of credit
The Reserve Bank of India supervises their functioning.	No one supervises their functioning.
In urban areas, it is the main source of credit.	In rural areas, it is the main source of credit.
Collateral is required.	There is no need of collateral.
Cost of borrowing is low.	Cost of borrowing is high.
The process of lending is long and complicated.	Credit is easily available.
Do not use unfair means to get their money back.	Use unfair means to get their money back.
Example: Banks, Cooperatives, etc.	Example: Moneylenders, friends, family, relatives, agricultural traders, etc.
Any other relevant point.	Any other relevant point.

Any five points to be analysed.

SECTION- E

(Case Based/Source-based Questions)

(3x4=12)

34. Read the following source carefully and answer the questions that follow:

**24-25
P**

4

Local Self Government

The local government structure goes right up to the district level. A few gram panchayats are grouped together to form what is usually called a panchayat samiti or block or mandal. The members of this representative body are elected by all the panchayat members in that area. All the panchayat samitis or mandals in a district together constitute the zilla (district) parishad. Most members of the zilla parishad are elected. Members of the Lok Sabha and MLAs of that district and some other officials of other district level bodies are also its members. Zilla parishad chairperson is the political head of the zilla parishad.



	<p>Similarly, local government bodies exist for urban areas as well. Municipalities are set up in towns. Big cities are constituted into municipal corporations. Both municipalities and municipal corporations are controlled by elected bodies consisting of people's representatives. Municipal chairperson is the political head of the municipality. In a municipal corporation, such an officer is called the mayor. This new system of local government is the largest experiment in democracy conducted anywhere in the world.</p> <hr/> <p>34.1 Explain the relationship between Gram Panchayats and Panchayat Samitis?</p> <p>(i) Gram Panchayats are grouped together to form Panchayat Samitis.</p> <p>(ii) Panchayat Samiti acts as a link between Zila Parishad and Gram Panchayat.</p> <p>(iii) Any other relevant point.</p> <p style="text-align: center;">Any one point to be explained.</p> <p>34.2 How is the structure of municipal corporation different from municipality?</p> <p>(i) A municipal corporation is an urban local self-government body that administers a city. A municipality is also an urban self-government body that administers a town.</p> <p>(ii) Any other relevant point</p> <p style="text-align: center;">Any one point to be explained.</p> <p>34.3 How does the local government structure promote democracy? Examine.</p> <p>(i) It promotes grass root level democracy.</p> <p>(ii) It deepens democracy.</p> <p>(iii) Increases women's participation.</p> <p>(iv) Participation of people in decision making.</p> <p>(v) Any relevant point.</p> <p style="text-align: center;">Any two points to be explained.</p>		1
			1
			2
35.	<p>Read the following source carefully and answer the questions that follow:</p> <p style="text-align: center;">New Forms of Publication</p> <p>By the end of the nineteenth century, a new visual culture was taking shape. With the setting up of an increasing number of printing presses, visual images could be easily reproduced in multiple copies. Painters like Raja Ravi Varma produced images for mass circulation. Poor wood engravers who made</p>	123 H	4



woodblocks set up shop near the letterpresses and were employed by print shops. Cheap prints and calendars, easily available in the bazaar, could be bought even by the poor to decorate the walls of their homes or places of work. These prints began shaping popular ideas about modernity and tradition, religion and politics, and society and culture.

By the 1870s, caricatures and cartoons were being published in journals and newspapers, commenting on social and political issues. Some caricatures ridiculed the educated Indians' fascination with Western tastes and clothes, while others expressed the fear of social change. There were imperial caricatures lampooning nationalists, as well as nationalist cartoons criticising imperial rule.

35.1. How did the development of printing technology impact visual culture?

1

- (i) Painters like Raja Ravi Varma produced images for mass circulation.
- (ii) With the setting up of an increasing number of printing presses, visual images could be easily reproduced in multiple copies.
- (iii) Any other relevant point.

Any one point to be explained.

35.2 How did Raja Ravi Varma contribute to the mass circulation of art in India?

1

- (i) Cheap prints and calendars, easily available in the bazaar, could be bought even by the poor to decorate the walls of their homes or places of work.
- (ii) The Raja Ravi Varma Press produced innumerable mythological paintings that were now accessible to the masses.
- (iii) Any other relevant point.

Any one point to be explained.

35.3 How did visual culture shape the memory of the 19th century social landscape? Explain.

2

- (i) Caricatures and cartoons were being published in journals and newspapers, commenting on social and political issues.
- (ii) Some ridiculed the educated Indians' fascination with Western tastes and clothes.
- (iii) Others expressed the fear of social change.

	<p>(iv) Nationalist cartoons criticised imperial rule.</p> <p>(v) Any other relevant point.</p> <p>Any two points to be explained</p>		
36.	<p>Read the following source carefully and answer the questions that follow:</p> <p>Sacred Groves - a wealth of diverse and rare species</p> <p>Nature worship is an age-old tribal belief based on the premise that all creations of nature have to be protected. Such beliefs have preserved several virgin forests in pristine form called Sacred Groves (the forests of God and Goddesses). These patches of forest or parts of large forests have been left untouched by the local people and any interference with them is banned. Certain societies revere a particular tree which they have preserved from time immemorial. The Mundas and the Santhal of Chota Nagpur region worship mahua (<i>Bassia latifolia</i>) and kadamba (<i>Anthocaphalus cadamba</i>) trees, and the tribals of Odisha and Bihar worship the tamarind (<i>Tamarindus indica</i>) and mango (<i>Mangifera indica</i>) trees during weddings. To many of us, peepal and banyan trees are considered sacred.</p> <p>Indian society comprises several cultures, each with its own set of traditional methods of conserving nature and its creations. Sacred qualities are often ascribed to springs, mountain peaks, plants and animals which are closely protected. You will find troops of macaques and langurs around many temples. They are fed daily and treated as a part of temple devotees. In and around Bishnoi villages in Rajasthan, herds of blackbuck (chinkara), nilgai and peacocks can be seen as an integral part of the community and nobody harms them.</p> <hr/> <p>36.1 How do sacred groves show the inter- connectivity of spirituality and ecology?</p> <p>(i) Sacred qualities are often ascribed to springs, mountain peaks, plants and animals which are closely protected.</p> <p>(ii) In many communities mountains, plants and animals are worshipped.</p> <p>(iii) Any other relevant point.</p> <p>Any one point to be explained.</p> <p>36.2 How do tribal practices promote conservation of forests?</p> <p>(i) The Mundas and the Santhals of Chota Nagpur region worship mahua and kadamba trees.</p> <p>(ii) Tribals of Odisha and Bihar worship the tamarind and mango trees during weddings.</p> <p>(iii) Any other relevant point.</p>	17 G	4

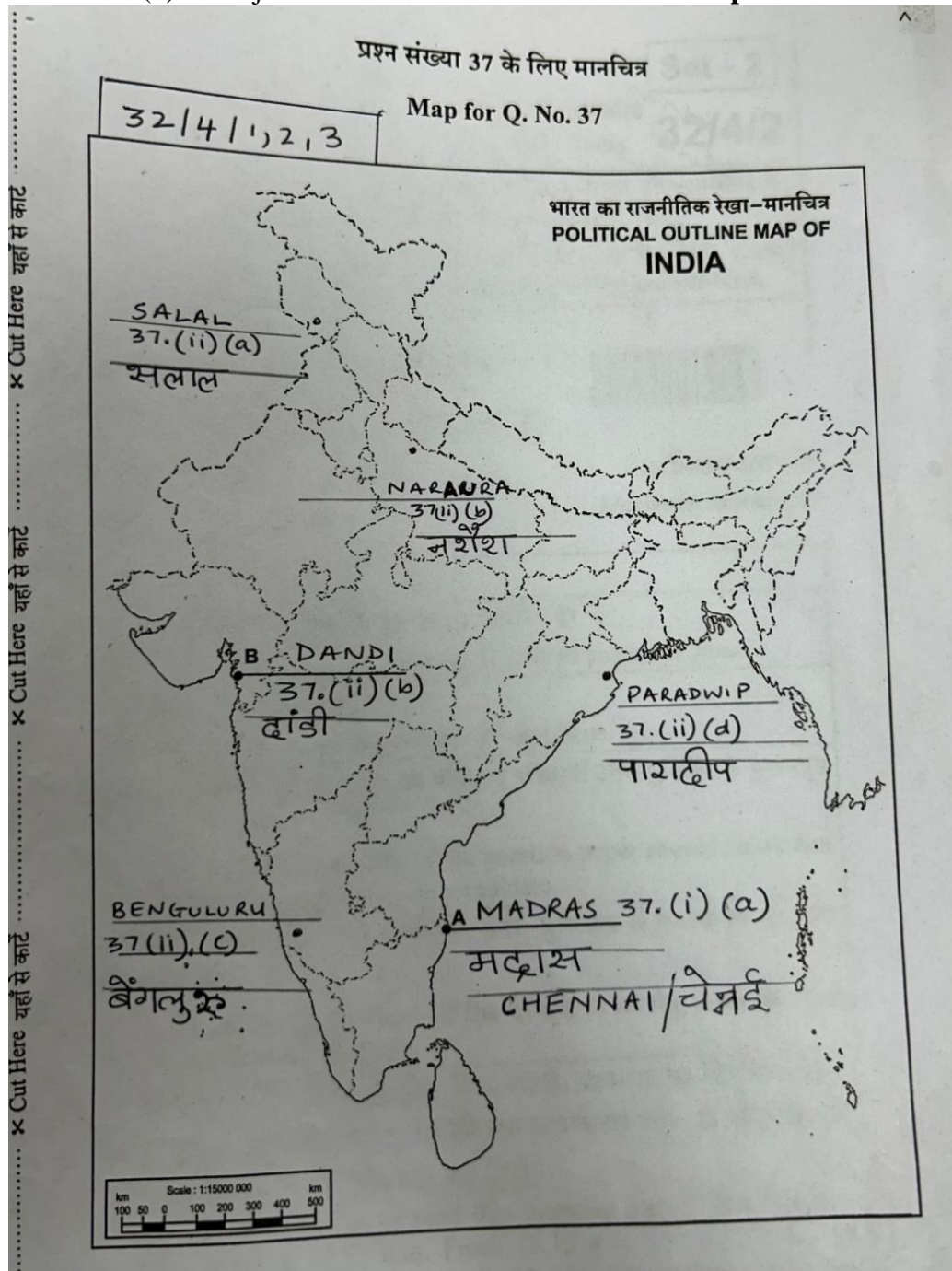


	<p align="center">Any one point to be explained</p> <p>36.3 Why is conservation of wildlife important for us?</p> <p>(i) It maintains ecological balance.</p> <p>(ii) Preserves ecological diversity</p> <p>(iii) Preserves our life support system.</p> <p>(iv) Any other relevant point.</p> <p align="center">Any two points to be explained.</p>		2
	<p>SECTION - F</p> <p>(Map Skill Based Question)</p>		(2+3=5)
37.	<p>(i) Two places (A) and (B) have been marked on the given political outline map of India. Identify them with the help of the following information and write their correct names on the lines drawn near them.</p> <p>(a) The place where the session of the Indian National Congress was held in 1927: Madras (Chennai)</p> <p>(b) The place where Gandhiji broke the salt law: Dandi</p> <p align="center">For answers please see the attached map</p> <p><i>Note the following questions are for the Visually Impaired Candidates only, in lieu of Q. No. 37 (i)</i></p>		<p>1</p> <p>1</p>
37.	<p>(a) Name the state where the session of Indian National Congress was held in 1927. Madras (Chennai)</p> <p>(b) Name the place where Gandhiji broke the salt law. Dandi</p> <p>(ii) On the same political outline map of India, locate and label any three of the following with suitable symbols:</p> <p>(a) A major dam on the Chenab river- Salal</p> <p>(b) Nuclear Power Plant located in Uttar Pradesh- Naraura</p> <p>(c) A major Software Technology Park located in Karnataka- Bengaluru</p> <p>(d) A major Sea Port located in Odisha- Paradwip</p> <p align="center">For answers please see the attached map</p>		<p>1</p> <p>1</p> <p>1</p> <p>1</p>
	<p><i>Note: The following questions are for the Visually Impaired Candidates only, in lieu of Q. No. 37. (ii)</i></p> <p>Attempt any three questions:</p>		



- (a) A major dam on the Chenab river- **Salal**
- (b) Nuclear Power Plant located in Uttar Pradesh- **Naraura**
- (c) A major Software Technology Park located in Karnataka- **Benguluru**
- (d) A major Sea Port located in Odisha- **Paradwip**

1
1
1
1



Marking Scheme
Strictly Confidential
(For Internal and Restricted use only)
Secondary School Examination February - 2025
SUBJECT NAME: Social Science SUBJECT CODE 087 PAPER CODE 32/4/2

General Instructions: -

1. You are aware that evaluation is the most important process in the actual and correct assessment of the candidates. A small mistake in evaluation may lead to serious problems which may affect the future of the candidates, education system and teaching profession. To avoid mistakes, it is requested that before starting evaluation, you must read and understand the spot evaluation guidelines carefully.
2. **“Evaluation policy is a confidential policy as it is related to the confidentiality of the examinations conducted, Evaluation done and several other aspects. Its’ leakage to public in any manner could lead to derailment of the examination system and affect the life and future of millions of candidates. Sharing this policy/document to anyone, publishing in any magazine and printing in News Paper/Website etc. may invite action under various rules of the Board and IPC.”**
3. Evaluation is to be done as per instructions provided in the Marking Scheme. It should not be done according to one’s own interpretation or any other consideration. Marking Scheme should be strictly adhered to and religiously followed. **However, while evaluating, answers which are based on latest information or knowledge and/or are innovative, they may be assessed for their correctness otherwise and due marks be awarded to them. In **Class-X**, while evaluating two competency-based questions, please try to understand given answer and even if reply is not from marking scheme but correct competency is enumerated by the candidate, due marks should be awarded.**
4. The Marking scheme carries only suggested value points for the answers. These are in the nature of Guidelines only and do not constitute the complete answer. The students can have their own expression and if the expression is correct, the due marks should be awarded accordingly.
5. The Head-Examiner must go through the first five answer books evaluated by each evaluator on the first day, to ensure that evaluation has been carried out as per the instructions given in the Marking Scheme. If there is any variation, the same should be zero after deliberation and discussion. The remaining answer books meant for evaluation shall be given only after ensuring that there is no significant variation in the marking of individual evaluators.
6. Evaluators will mark (✓) wherever answer is correct. For wrong answer CROSS ‘X’ be marked. Evaluators will not put right (✓) while evaluating which gives an impression that answer is correct and no marks are awarded. **This is most common mistake which evaluators are committing.**
7. If a question has parts, please award marks on the right-hand side for each part. Marks awarded for different parts of the question should then be totaled up and written in the left-hand margin and encircled. This may be followed strictly.
8. If a question does not have any parts, marks must be awarded in the left-hand margin and encircled. This may also be followed strictly.
9. If a student has attempted an extra question, answer of the question deserving more marks should be retained and the other answer scored out with a note **“Extra Question”**.
10. No marks to be deducted for the cumulative effect of an error. It should be penalized only once.
11. A full scale of marks ____80____ (example 0 to 80/70/60/50/40/30 marks as given in Question Paper) has to be used. Please do not hesitate to award full marks if the answer deserves it.



12.	Every examiner has to necessarily do evaluation work for full working hours i.e., 8 hours every day and evaluate 20 answer books per day in main subjects and 25 answer books per day in other subjects (Details are given in Spot Guidelines).
13.	<p>Ensure that you do not make the following common types of errors committed by the Examiner in the past:- Giving more marks for an answer than assigned to it.</p> <ul style="list-style-type: none"> • Wrong totaling of marks awarded on an answer. • Wrong transfer of marks from the inside pages of the answer book to the title page. <p>Wrong question wise totaling on the title page.</p> <ul style="list-style-type: none"> • Leaving answer or part thereof unassessed in an answer book. • Wrong totaling of marks of the two columns on the title page. • Wrong grand total. • Marks in words and figures not tallying/not same. • Wrong transfer of marks from the answer book to online award list. • Answers marked as correct, but marks not awarded. (Ensure that the right tick mark is correctly and clearly indicated. It should merely be a line. Same is with the X for incorrect answer.) • Half or a part of answer marked correct and the rest as wrong, but no marks awarded.
14.	While evaluating the answer books if the answer is found to be totally incorrect, it should be marked as cross (X) and awarded zero (0) Marks.
15.	Any un assessed portion, non-carrying over of marks to the title page, or totaling error detected by the candidate shall damage the prestige of all the personnel engaged in the evaluation work as also of the Board. Hence, in order to uphold the prestige of all concerned, it is again reiterated that the instructions be followed meticulously and judiciously.
16.	The Examiners should acquaint themselves with the guidelines given in the “ Guidelines for spot Evaluation ” before starting the actual evaluation.
17.	Every Examiner shall also ensure that all the answers are evaluated, marks carried over to the title page, correctly totaled and written in figures and words.
18.	The candidates are entitled to obtain photocopy of the Answer Book on request on payment of the prescribed processing fee. All Examiners/Additional Head Examiners/Head Examiners are once again reminded that they must ensure that evaluation is carried out strictly as per value points for each answer as given in the Marking Scheme.



Marking Scheme
Class X -Social Science (087)
SET-32/4/2

SET -2

MM-80

Q.No.	मूल्य बिन्दु		Page No.	Marks
	खण्ड –क (बहुविकल्पीय प्रश्न)			(20X1=20)
1	(c)	केवल (i), (ii) और (iv) सही है।	5 E	1
2	(c)	बढ़ी हुई संयोजकता	63 E	1
3	(a)	(i) और (iii) सही है।	48 E	1
4	(c)	उत्पादन गतिविधियों की प्रकृति	20 E	1
5	(d)	डॉक्टर, शिक्षक, वकील	20 E	1
6	(a)	प्रति व्यक्ति आय	8 E	1
7	(a)	A	13 E	1
8	(c)	1992	24 P	1
9	(b)	नागरिक नीतियों के निर्धारण में स्वयं को सशक्त महसूस करते हैं।	64 P	1
10	(d)	बीजू जनता दल – ओडिशा	56 P	1
11	(d)	विधायिका, कार्यपालिका और न्यायपालिका के बीच शक्ति वितरण।	8 P	1
12	(b)	केंद्र और राज्यों के बीच शक्तियों की साझेदारी सुनिश्चित करके।	16 P	1
13	(a)	दोनों, (A) और (R) सही हैं और (R),(A) की सही व्याख्या करता है।	2 P	1
14	(d)	(iii), (iv), (ii) और (i)	45-47 G	1
15	(b)	कॉफी	37 G	1
16	(c)	काली मृदा	7 G	1
17	(c)	II, I, IV और III	10-21H	1
18	(b)	अबनींद्रनाथ टैगोर नोट: निम्नलिखित प्रश्न केवल दृष्टिबाधित परीक्षार्थियों के लिए प्रश्न संख्या 3 के स्थान पर हैं।	47 H	1
	(d)	बी.आर. अम्बेडकर	44 H	1
19	(a)	भारतीय समाचार-पत्रों को प्रतिबंधित करके	127 H	1
20	(d)	व्यापार और सांस्कृतिक आदान-प्रदान के कारण	54 H	1

	खण्ड – ख (अति लघु-उत्तरीय प्रश्न)		(4X2=8)
21	<p>(A) “संसाधनों के विवेकपूर्ण उपयोग के लिए नियोजन एक सर्वमान्य रणनीति है।” इस कथन की व्याख्या कीजिए।</p> <p>(i) नियोजन उन देशों के लिए महत्वपूर्ण है जहाँ संसाधनों की उपलब्धता में अधिक विविधता है।</p> <p>(ii) यह उन प्रदेशों के लिए महत्वपूर्ण है जहाँ एक तरह की संसाधनों की प्रचुरता है और दूसरे तरह के संसाधनों की कमी है।</p> <p>(iii) नियोजन राष्ट्रीय, राज्य और क्षेत्रीय स्तरों पर संसाधनों के संतुलित वितरण में मदद करती है।</p> <p>(iv) नियोजन सतत विकास में सहायता प्रदान करता है।</p> <p>(v) कोई अन्य महत्वपूर्ण बिन्दु।</p> <p>किन्हीं दो बिन्दुओं की व्याख्या अपेक्षित है।</p> <p>अथवा</p> <p>(B) “मानव जीवन की गुणवत्ता बनाए रखने के लिए संसाधनों का समाज में न्यायसंगत बंटवारा आवश्यक है।” इस कथन की व्याख्या कीजिए।</p> <p>(i) सतत अस्तित्व सतत विकास का एक हिस्सा है।</p> <p>(ii) यदि कुछ व्यक्तियों और देशों द्वारा संसाधनों का वर्तमान दोहन जारी रहता है, तो हमारे ग्रह का भविष्य खतरे में पड़ जाएगा।</p> <p>(iii) आर्थिक व पर्यावरणीय सुरक्षा प्रणाली पर ध्यान देने की सख्त आवश्यकता है।</p> <p>(iv) संसाधनों का असमान वितरण क्षेत्रीय विकास में एक बड़ा अंतर पैदा करेगा जो राष्ट्र के लिए खतरा होगा।</p> <p>(v) जीवन के सभी प्रारूपों में सतत अस्तित्व के लिए संसाधन नियोजन आवश्यक है।</p> <p>(vi) संसाधनों के विकास एवं वितरण के लिए उचित प्रौद्योगिकी, कौशल एवं संस्थागत व्यवस्थाओं की आवश्यकता है।</p> <p>(vii) गुणात्मक और मात्रात्मक आकलन के साथ संसाधनों का विवेकपूर्ण उपयोग आवश्यक है।</p> <p>(viii) कोई अन्य महत्वपूर्ण बिन्दु।</p> <p>किन्हीं दो बिन्दुओं की व्याख्या अपेक्षित है।</p>	4 G	2X1=2
		3G	2X1=2

22	<p>नारीवादी आंदोलनों ने किस प्रकार सार्वजनिक जीवन में महिलाओं की भूमिका को बढ़ाने में सहायता की? स्पष्ट कीजिए।</p> <p>(i) नारीवादी आंदोलन पुरुषों और महिलाओं दोनों के लिए समान अधिकारों और अवसरों का समर्थन करते हैं।</p> <p>(ii) अब सार्वजनिक जीवन में महिलाओं का भागीदारी पहले की अपेक्षा अधिक हुई है।</p> <p>(iii) नारीवादी आंदोलनों ने महिलाओं की कानूनी स्थिति को बेहतर बनाया है।</p> <p>(iv) महिलाएं वैज्ञानिक, इंजीनियर व डॉक्टर के रूप में कार्य कर रही हैं।</p> <p>(v) समान काम के लिए समान वेतन को प्रोत्साहन देने से महिलाओं की स्थिति में सुधार आया है।</p> <p>(vi) शिक्षा और करियर के बेहतर अवसरों के उपलब्ध होने से महिलाओं की सार्वजनिक जीवन में भागीदारी बढ़ी है।</p> <p>(vii) कोई अन्य महत्वपूर्ण बिन्दु।</p> <p>किन्हीं दो बिन्दुओं की व्याख्या अपेक्षित है।</p>	30-31P	2X1=2
23	<p>जीवन की गुणवत्ता के लिए सार्वजनिक सुविधाओं की भूमिका को स्पष्ट कीजिए।</p> <p>(i) सार्वजनिक सुविधाएँ सरकार द्वारा प्रदान की जाती हैं।</p> <p>(ii) स्वास्थ्य सुविधाओं में सरकार द्वारा निवेश बढ़ाने से नागरिकों के जीवन में खुशहाली आती है।</p> <p>(iii) गुणवत्तापूर्ण शिक्षा (विशेषरूप से प्राथमिक शिक्षा), प्रदान करना जिससे मानव संसाधन का विकास हो।</p> <p>(iv) सुरक्षित पेयजल अच्छा स्वास्थ्य प्रदान करेगा।</p> <p>(v) गरीबों को आवास सुविधाएँ प्रदान करने से आधारभूत जीवन स्तर में सुधार होता है।</p> <p>(vi) सुरक्षित और अच्छी परिवहन सुविधाएँ प्रदान करने से आर्थिक गतिविधियों का विकास होता है।</p> <p>(vii) कोई अन्य महत्वपूर्ण बिन्दु।</p> <p>किन्हीं दो बिन्दुओं को स्पष्ट किया जाना अपेक्षित है।</p>	34 E	2X1=2



24	<p>यूरोपीय हस्तक्षेप से पहले भारतीय उपमहाद्वीप व्यापारिक नेटवर्क के लिए क्यों महत्वपूर्ण था? स्पष्ट कीजिए।</p> <p>(i) भारतीय उपमहाद्वीप पूर्व को पश्चिम से जोड़ने वाले रेशम मार्ग जैसे प्रमुख व्यापारिक मार्गों पर अवस्थित है।</p> <p>(ii) यह व्यापार नेटवर्क का केंद्र था।</p> <p>(iii) यह व्यापारिक मार्गों को भूमि एवं जल से जोड़ता है।</p> <p>(iv) चीनी पॉटरी, भारत और दक्षिण पूर्व एशिया से कपड़े व मसाले इन मार्गों के माध्यम से पहुँचाए जाते थे।</p> <p>(v) इसने वस्तुओं, लोगों, ज्ञान, रीति-रिवाजों आदि के आदान-प्रदान में मदद की।</p> <p>(vi) इस प्रकार, भारत इन महाद्वीपों के बीच व्यापार नेटवर्क के केंद्र में था और इस व्यापार में भाग लेता था।</p> <p>(vii) कोई अन्य महत्वपूर्ण बिन्दु।</p> <p>किन्हीं दो बिन्दुओं का वर्णन अपेक्षित है।</p>	55 H	2X1=2
	<p>खण्ड – ग</p> <p>(लघु-उत्तरीय प्रश्न)</p>		(5X3=15)
25	<p>1991 में लागू की गई व्यापार नीति ने भारत में वैश्वीकरण की प्रक्रिया को किस प्रकार उत्प्रेरित किया? उदाहरण सहित स्पष्ट कीजिए।</p> <p>(i) विदेशी व्यापार पर अवरोधों को हटाया गया, जिससे व्यवसायों को आयात और निर्यात के अवसर मिलेंगे।</p> <p>(ii) बहुराष्ट्रीय कंपनियों द्वारा निवेश को प्रोत्साहित किया गया। उदाहरण: सेल फोन, ऑटोमोबाइल, सॉफ्ट ड्रिंक, फास्ट फूड आदि।</p> <p>(iii) भारतीय कंपनियों को दुनिया भर के उत्पादकों के साथ प्रतिस्पर्धा करने के लिए प्रोत्साहित किया गया।</p> <p>(iv) भारतीय कंपनियों को विदेशी कंपनियों के साथ सहयोग करने के लिए प्रोत्साहित किया गया। जिससे कुछ बड़ी भारतीय कंपनियां स्वयं बहुराष्ट्रीय बन गई हैं। उदाहरण: टाटा मोटर्स और इंफोसिस</p> <p>(v) विदेशी निवेश को आकर्षित करने के लिए बुनियादी ढांचे में सुधार और नीतियां विकसित करना। उदाहरण: विशेष आर्थिक क्षेत्र।</p>	64 E	3X1=3



	<p>(vi) इसने सेवाएं प्रदान करने वाली कंपनियों के लिए नए अवसर पैदा किए हैं। उदाहरण: आईटी।</p> <p>(vii) कोई अन्य महत्वपूर्ण बिन्दु।</p> <p>किन्हीं तीन बिन्दुओं का वर्णन अपेक्षित है।</p>		
26	<p>(A) फ्रांसीसी क्रांतिकारियों द्वारा राष्ट्रीय एकता की भावना पैदा करने के लिए उठाए गए कदमों का वर्णन कीजिए।</p> <p>(i) पितृभूमि “(la patrie)” और नागरिक “(le citoyen)” के विचार</p> <p>(ii) एक नया फ्रांसीसी झंडा – तिरंगा चुना गया जिसने पहले राजध्वज की जगह ले ली।</p> <p>(iii) इस्टेट जनरल बदलकर नेशनल असेंबली कर दिया गया।</p> <p>(iv) नई स्तुतियाँ रची गई, शपथें ली गई, शहीदों का गुणगान हुआ— और यह सब राष्ट्र के नाम पर हुआ।</p> <p>(v) एक केंद्रीय प्रशासनिक प्रणाली शुरू की गई।</p> <p>(vi) सभी नागरिकों के लिए एक समान कानून लागू किए गए।</p> <p>(vii) आंतरिक आयात – निर्यात शुल्क को समाप्त कर दिए गया।</p> <p>(viii) भार और माप की एक समान व्यवस्था लागू की गई।</p> <p>(ix) पेरिस में बोली जाने वाली फ्रेंच भाषा ने क्षेत्रीय बोलियों की जगह ले ली।</p> <p>(x) कोई अन्य महत्वपूर्ण बिन्दु।</p> <p>किन्हीं तीन बिन्दुओं का विश्लेषण अपेक्षित है।</p> <p>अथवा</p> <p>(B) उन ऐतिहासिक कारकों का वर्णन कीजिए जिन्होंने बाल्कन में राष्ट्रवादी तनावों के उदय में योगदान दिया।</p> <p>(i) बाल्कन भौगोलिक और जातीय भिन्नता वाला क्षेत्र था।</p> <p>(ii) बाल्कन क्षेत्र का एक बड़ा हिस्सा ऑटोमन साम्राज्य के नियंत्रण में था।</p> <p>(iii) रूमानी राष्ट्रवाद के विचार फैलने और ऑटोमन साम्राज्य के विघटन से इस क्षेत्र की स्थिति विस्फोटक हो गई।</p>	5H	3X1=3
		26H	3X1=3



	<p>(iv) आंतरिक सुधारों के माध्यम से आधुनिकीकरण के अपने प्रयासों में ऑटोमन विफल रहे।</p> <p>(v) यूरोपीय राष्ट्रवादियों ने ऑटोमन नियंत्रण से अलग होकर अपनी स्वतंत्रता की घोषणा की।</p> <p>(vi) बाल्कन लोगों ने आजादी या राजनीतिक अधिकारों के अपने दावों को राष्ट्रीयता का आधार दिया, जिससे साबित हुआ कि वे कभी स्वतंत्र थे।</p> <p>(vii) बाल्कन क्षेत्र तब तीव्र संघर्ष में बदल गया जब प्रत्येक बाल्कन राष्ट्र ने दूसरे की कीमत पर अपने क्षेत्र का विस्तार करने की कोशिश की।</p> <p>(viii) इस क्षेत्र में बड़ी शक्तियों की प्रतिद्वंद्विता के कारण परिस्थितियां अधिक जटिल हो गईं।</p> <p>(ix) कोई अन्य महत्वपूर्ण बिन्दु।</p> <p>किन्हीं तीन बिन्दुओं की व्याख्या अपेक्षित है।</p>		
27	<p>भारत में कृषि को लाभदायक बनाने के लिए सरकार द्वारा किए गए उपायों की परख कीजिए।</p> <p>(i) 1980 और 1990 के दशक में भूमि सुधारों में संस्थागत और तकनीकी सुधार शामिल थे।</p> <p>(ii) सूखा, बाढ़, चक्रवात, आग और बीमारी के खिलाफ फसल बीमा के प्रावधान पेश किए गए।</p> <p>(iii) कम ब्याज दरों पर ऋण प्रदान करने के लिए ग्रामीण बैंकों और सहकारी समितियों की स्थापना की गई।</p> <p>(iv) किसानों को किसान क्रेडिट कार्ड (KCC) प्रदान करने के लिए सरकार द्वारा उठाया गया कदम।</p> <p>(v) सरकार द्वारा व्यक्तिगत दुर्घटना बीमा योजना (PAIS) पेश की गई।</p> <p>(vi) रेडियो और टीवी पर किसानों के लिए विशेष मौसम बुलेटिन और कृषि कार्यक्रम का प्रसारण।</p>	39G	3X1=3



	<p>(vii) सरकार द्वारा महत्वपूर्ण फसलों के लिए न्यूनतम समर्थन मूल्य, लाभकारी और खरीद मूल्य की घोषणा।</p> <p>(viii) कोई अन्य प्रासंगिक बिंदु।</p> <p>किन्हीं तीन बिन्दुओं की परख अपेक्षित है।</p>		
28	<p>लोकतंत्र में विपक्ष की भूमिका को स्पष्ट कीजिए।</p> <p>(i) चुनाव हारने वाले दल विपक्ष की भूमिका निभाते हैं।</p> <p>(ii) वे विभिन्न विचार व्यक्त करते हैं।</p> <p>(iii) सरकार की विफलताओं की आलोचना करते हैं।</p> <p>(iv) वे गलत नीतियों का विरोध करते हैं।</p> <p>(v) सरकार के विरुद्ध जनमत जुटाते हैं।</p> <p>(vi) कोई अन्य महत्वपूर्ण बिन्दु।</p> <p>किन्हीं तीन बिन्दुओं की व्याख्या अपेक्षित है।</p>	49 P	3X1=3
29	<p>भारत ने आर्थिक विकास को बढ़ावा देने में सरकारी नीतियों की भूमिका की परख कीजिए।</p> <p>(i) बुनियादी ढांचे के विकास को प्रोत्साहित करना।</p> <p>(ii) विभिन्न वस्तुओं पर सब्सिडी प्रदान करना।</p> <p>(iii) सार्वजनिक सुविधाओं में निवेश को बढ़ाना।</p> <p>(iv) उदारीकरण और वैश्वीकरण जैसी नीतियों को अपनाना।</p> <p>(v) ग्रामीण एवं अर्ध-ग्रामीण इलाकों में उद्योगों को बढ़ावा देने की नीति का अनुपालन करके।</p> <p>(vi) स्टार्टअप का समर्थन करना।</p> <p>(vii) गरीबी उन्मूलन व बेरोजगारी समस्या के समाधान के लिए मनेरगा जैसे कानूनों को लागू किया गया है।</p> <p>(viii) औपचारिक ऋणों तक आसान पहुँच को बढ़ावा देना।</p> <p>(ix) विभिन्न कौशल के विकास पर अधिक निवेश करना।</p> <p>(x) कोई अन्य महत्वपूर्ण बिन्दु।</p> <p>किन्हीं तीन बिन्दुओं की परख अपेक्षित है।</p>	63E	3X1=3



	खण्ड – घ (दीर्घ-उत्तरीय प्रश्न)		(4X5=20)
30	<p>(A) असहयोग आंदोलन में गाँधीजी की भूमिका की व्याख्या उदाहरण सहित कीजिए।</p> <p>(i) गांधीजी का असहयोग का विचार हिंद स्वराज में वर्णित अंग्रेजों के साथ सहयोग न करने के उनके विचार से उपजा है।</p> <p>(ii) गांधीजी चाहते थे कि आंदोलन चरणों में आगे बढ़े।</p> <p>(iii) ब्रिटिश सरकार द्वारा प्रदान की गई उपाधियों का त्याग।</p> <p>(iv) ब्रिटिश सेवाओं का बहिष्कार जैसे सिविल सेवाओं, सेना, पुलिस, अदालतों, स्कूलों और विधान परिषदों का बहिष्कार।</p> <p>(v) ब्रिटिश वस्तुओं का बहिष्कार और खादी जैसे भारतीय सामानों को बढ़ावा देना।</p> <p>(vi) दमन के विरोध में पूर्ण सविनय अवज्ञा अभियान शुरू करना।</p> <p>(vii) गांधीजी द्वारा खिलाफत आंदोलन का समर्थन करने से हिंदु-मुस्लिम एकता को बढ़ावा मिला।</p> <p>(viii) कांग्रेस के नागपुर अधिवेशन में असहयोग आंदोलन को स्वीकार करवाने में महात्मा गांधी ने महत्वपूर्ण भूमिका निभाई।</p> <p>(ix) गांधीजी के आह्वान पर कस्बों और शहरों में मध्यम वर्ग की भागीदारी।</p> <p>(x) गांधीजी के नाम पर किसानों, आदिवासियों और बागान मजदूरों की भागीदारी।</p> <p>(xi) गांधीजी के असहयोग आंदोलन के आह्वान पर भारत के विभिन्न समुदायों को ब्रिटिश साम्राज्य के विरुद्ध झुकना कर दिया।</p> <p>(xii) कोई अन्य महत्वपूर्ण बिन्दु।</p> <p>किन्हीं पाँच बिन्दुओं की व्याख्या अपेक्षित है।</p> <p>अथवा</p> <p>(B) सविनय अवज्ञा आंदोलन भारत में किस प्रकार सभी समुदायों को एक साथ लाने में समर्थ रहा? उदाहरणों सहित व्याख्या कीजिए।</p> <p>(i) वायसराय इरविन को लिखें पत्र में महात्मा गांधी ने 11 मांगें रखी थी जिसे वायसराय ने नहीं मांगा। जिसके कारण सभी लोग एकजुट हो गए।</p> <p>(ii) नमक कर के मुद्दे को उठाने से भारत भर के समुदाय एकजुट हुए क्योंकि नमक एक ऐसी वस्तु थी जिसका उपभोग अमीर और गरीब दोनों समान रूप से करते थे।</p> <p>(iii) नमक कानून तोड़ने के लिए दांडी मार्च की शुरुआत हुई।</p>	32-33 H	5X1=5
		39-43 H	5X1=5



	<p>(iv) 78 स्वयंसेवकों के साथ शुरू हुआ और इसमें हजारों लोग शामिल हुए।</p> <p>(v) हजारों लोगों द्वारा नमक कानून तोड़ा गया।</p> <p>(vi) वनों में रहने वाले लोगों ने वन कानूनों को तोड़कर आंदोलन में भागीदारी की।</p> <p>(vii) किसानों ने चौकीदारी कर देने से मना कर दिया।</p> <p>(viii) अमीर किसानों (पाटीदार और जाट) की भागीदारी।</p> <p>(ix) गरीब किसानों की भागीदारी।</p> <p>(x) भारतीय उद्योगपतियों की भागीदारी।</p> <p>(xi) श्रमिकों की भागीदारी।</p> <p>(xii) महिलाओं की बड़े पैमाने पर भागीदारी।</p> <p>(xiii) कोई अन्य महत्वपूर्ण बिन्दु।</p> <p>किन्हीं पाँच बिन्दुओं की व्याख्या अपेक्षित है।</p>		
31	<p>(A) “भारत में बढ़ती ऊर्जा की मांग को पूरा करने के लिए सतत् पोषणीय मार्ग को विकसित करना लाभदायक होगा।” उपयुक्त तर्कों द्वारा इस कथन की पुष्टि कीजिए।</p> <p>(i) आर्थिक विकास के लिए ऊर्जा मूलभूत आवश्यकता है।</p> <p>(ii) कृषि, उद्योग, परिवहन, वाणिज्यिक और घरेलू जैसे हर क्षेत्र को ऊर्जा की आवश्यकता होती है।</p> <p>(iii) संपूर्ण देश में सभी रूपों में ऊर्जा की खपत लगातार बढ़ रही है।</p> <p>(iv) ऊर्जा संरक्षण को बढ़ावा देना और नवीकरणीय ऊर्जा स्रोतों का बढ़ता उपयोग ऊर्जा की सतत् आपूर्ति हो सकेगी।</p> <p>(v) कुशल ऊर्जा कार्यक्रमों के उपयोग के माध्यम से ऊर्जा विकास का एक सतत् तरीका विकसित करना आज के समय की मांग है।</p> <p>(vi) ऊर्जा संरक्षण के लिए जन जागरूकता अभियान चलाए जाए।</p> <p>(vii) सीमित ऊर्जा संसाधनों के विवेकपूर्ण उपयोग के प्रति सतर्क दृष्टिकोण।</p> <p>(viii) सौर, पवन और भू-तापीय जैसे ऊर्जा के गैर-परंपरागत स्रोतों का उपयोग।</p> <p>(ix) ऊर्जा बचाने के लिए छोटे-छोटे कदम जैसे सार्वजनिक परिवहन का उपयोग, उपयोग में न होने पर बिजली का स्विच ऑफ करना, बिजली बचाने वाले उपकरणों का उपयोग करना आदि।</p> <p>(x) कोई अन्य महत्वपूर्ण बिन्दु।</p> <p>किन्हीं पाँच बिन्दुओं के माध्यम से पुष्टि अपेक्षित है।</p>	55 G	5X1=5



	<p style="text-align: center;">अथवा</p> <p>(B) “हमें अपने खनिजों के संरक्षण के लिए उनका सुनियोजित एवं सतत् पोषणीय ढंग से प्रयोग करना होगा।” उपयुक्त तर्कों द्वारा इस कथन की पुष्टि कीजिए।</p> <ul style="list-style-type: none"> (i) खनिज संसाधन सीमित और गैर-नवीकरणीय हैं। (ii) कोयला एवं लौह जैसे खनिजों का निर्माण काफी लंबे समय के बाद होता है। (iii) खनिज भंडारों पर उद्योग और कृषि की उच्च निर्भरता है। (iv) उपयोग किए गए संसाधनों की पुनःपूर्ति एक समय लेने वाली प्रक्रिया है। (v) खनिज संसाधनों का विवेकपूर्ण उपयोग समय की मांग है। (vi) कम लागत पर निम्न-श्रेणी के अयस्कों के उपयोग के लिए प्रौद्योगिकी में सुधार। (vii) धातुओं का पुनः उपयोग। (viii) पर्यावरणीय कानूनों का सख्ती से अनुपालन। (ix) कोई अन्य महत्वपूर्ण बिन्दु। <p style="text-align: center;">किन्हीं पाँच बिन्दुओं के माध्यम से पुष्टि अपेक्षित है।</p>	49 G	5X1=5
32	<p>(A) “लोकतंत्र लोगों को प्रजा से नागरिक बनाने की गवाही देता है।” इस कथन को उपयुक्त तर्कों सहित न्यायसंगत ठहराइये।</p> <ul style="list-style-type: none"> (i) लोकतांत्रिक सिद्धांत लोगों को अधिक अपेक्षाएँ रखने की अनुमति देते हैं। (ii) लोकतंत्र के प्रति असंतोष दिखाने के लिए अभिव्यक्ति की स्वतंत्रता लोगों को प्रजा से नागरिक की स्थिति में बदलने का संकेत देती है। (iii) लोकतंत्र नागरिकों के बीच समानता को बढ़ावा देता है। (iv) यह नागरिकों की गरिमा को बढ़ाता है। (v) यह निर्णय लेने की गुणवत्ता में सुधार करता है। (vi) यह संघर्षों को हल करने के तरीके प्रदान करता है। (vii) यह गलतियों को सुधारने की गुंजाइश देता है। (viii) लोकतंत्र के परिणामों के बारे में लोगों की शिकायतें अपने आप में इसकी सफलता का प्रमाण हैं। (ix) कोई अन्य महत्वपूर्ण बिन्दु। <p style="text-align: center;">किन्हीं पाँच बिन्दुओं के आधार पर न्यायसंगत ठहराया जाना अपेक्षित है।</p>	72 P	5x1=5



	<p style="text-align: center;">अथवा</p> <p>(B) “लोकतंत्र और विकास एक साथ चलते हैं।” इस कथन को उपयुक्त तर्कों सहित कथन को न्यायसंगत ठहराइए।</p> <p>(i) लोकतंत्र सत्ता के बंटवारे को प्रोत्साहित करते हैं, जिससे प्रत्येक नागरिक को शासन में अपनी बात रखने का अवसर मिलता है।</p> <p>(ii) लोकतंत्र द्वारा अपनाई गई विकेंद्रीकरण की नीति संपूर्ण राष्ट्र के विकास को सुनिश्चित करती है।</p> <p>(iii) लोकतंत्र नागरिकों की गरिमा और स्वतंत्रता का समर्थन करता है, जो उन्हें राष्ट्र के विकास में योगदान करने के लिए प्रोत्साहित करता है।</p> <p>(iv) विविधता का समायोजन राष्ट्र में सद्भाव सुनिश्चित करता है जिससे विकास होता है।</p> <p>(v) समानता लोकतंत्र के मूल सिद्धांतों में से एक है जिसके परिणामस्वरूप आर्थिक विकास होता है।</p> <p>(vi) लोकतंत्र द्वारा अपनाई गई वैश्वीकरण और उदारीकरण की नीतियों ने अंतर्राष्ट्रीय व्यापार को प्रोत्साहित किया है जिससे प्रगति हुई है।</p> <p>(vii) कोई अन्य महत्वपूर्ण बिन्दु।</p> <p>किन्हीं पाँच बिन्दुओं के आधार पर न्यायसंगत ठहराया जाना अपेक्षित है।</p>	67 P	5x1=5
33	<p>(A) ग्रामीण अर्थव्यवस्था में ऋण की भूमिका का विश्लेषण कीजिए।</p> <p>(i) ग्रामीण अर्थव्यवस्था के आर्थिक विकास और वृद्धि के लिए महत्वपूर्ण।</p> <p>(ii) किसानों को गैर-कृषि गतिविधियों में निवेश करने के लिए प्रोत्साहित करता है।</p> <p>(iii) कृषि पद्धतियों को आधुनिक बनाने के लिए किसान की सहायता करता है।</p> <p>(iv) कृषि उत्पादन में वृद्धि करता है।</p> <p>(v) चल रहे खर्चों का प्रबंधन करने में मदद करता है।</p> <p>(vi) किसान को ऋणजाल में फंसा सकता है।</p> <p>(vii) कोई अन्य महत्वपूर्ण बिन्दु।</p> <p>किन्हीं पाँच बिन्दुओं का विश्लेषण अपेक्षित है।</p>	43E	5X1=5

	<div>अथवा</div> <div>(B) औपचारिक और अनौपचारिक ऋण के स्रोतों में अंतर का विश्लेषण कीजिए।</div> <table><tr><th>ऋण के औपचारिक स्रोत</th><th>ऋण के अनौपचारिक स्रोत</th></tr><tr><td>भारतीय रिजर्व बैंक उनके कामकाज की निगरानी करता है।</td><td>कोई भी उनके कामकाज की निगरानी नहीं करता है।</td></tr><tr><td>शहरी क्षेत्रों में, यह ऋण का मुख्य स्रोत है।</td><td>ग्रामीण क्षेत्रों में, यह ऋण का मुख्य स्रोत है।</td></tr><tr><td>समर्थक ऋणाधार की आवश्यकता होती है।</td><td>समर्थक ऋणाधार की कोई आवश्यकता नहीं है।</td></tr><tr><td>ऋण लेने की लागत कम है।</td><td>ऋण लेने की लागत अधिक है।</td></tr><tr><td>ऋण देने की प्रक्रिया लंबी और जटिल है।</td><td>ऋण आसानी से उपलब्ध है।</td></tr><tr><td>अपना पैसा वापस पाने के लिए अनुचित साधनों का उपयोग नहीं करते।</td><td>अपना पैसा वापस पाने के लिए अनुचित साधनों का उपयोग करते हैं।</td></tr><tr><td>उदाहरण: बैंक, सहकारी समितियां, आदि।</td><td>उदाहरण: साहूकार, मित्र, परिवार, रिश्तेदार, कृषि व्यापारी, आदि।</td></tr><tr><td>कोई अन्य महत्वपूर्ण बिन्दु।</td><td>कोई अन्य महत्वपूर्ण बिन्दु।</td></tr></table> <div>किन्हीं पाँच बिन्दुओं का विश्लेषण अपेक्षित है।</div>	ऋण के औपचारिक स्रोत	ऋण के अनौपचारिक स्रोत	भारतीय रिजर्व बैंक उनके कामकाज की निगरानी करता है।	कोई भी उनके कामकाज की निगरानी नहीं करता है।	शहरी क्षेत्रों में, यह ऋण का मुख्य स्रोत है।	ग्रामीण क्षेत्रों में, यह ऋण का मुख्य स्रोत है।	समर्थक ऋणाधार की आवश्यकता होती है।	समर्थक ऋणाधार की कोई आवश्यकता नहीं है।	ऋण लेने की लागत कम है।	ऋण लेने की लागत अधिक है।	ऋण देने की प्रक्रिया लंबी और जटिल है।	ऋण आसानी से उपलब्ध है।	अपना पैसा वापस पाने के लिए अनुचित साधनों का उपयोग नहीं करते।	अपना पैसा वापस पाने के लिए अनुचित साधनों का उपयोग करते हैं।	उदाहरण: बैंक, सहकारी समितियां, आदि।	उदाहरण: साहूकार, मित्र, परिवार, रिश्तेदार, कृषि व्यापारी, आदि।	कोई अन्य महत्वपूर्ण बिन्दु।	कोई अन्य महत्वपूर्ण बिन्दु।	42-49E	5X1=5
ऋण के औपचारिक स्रोत	ऋण के अनौपचारिक स्रोत																				
भारतीय रिजर्व बैंक उनके कामकाज की निगरानी करता है।	कोई भी उनके कामकाज की निगरानी नहीं करता है।																				
शहरी क्षेत्रों में, यह ऋण का मुख्य स्रोत है।	ग्रामीण क्षेत्रों में, यह ऋण का मुख्य स्रोत है।																				
समर्थक ऋणाधार की आवश्यकता होती है।	समर्थक ऋणाधार की कोई आवश्यकता नहीं है।																				
ऋण लेने की लागत कम है।	ऋण लेने की लागत अधिक है।																				
ऋण देने की प्रक्रिया लंबी और जटिल है।	ऋण आसानी से उपलब्ध है।																				
अपना पैसा वापस पाने के लिए अनुचित साधनों का उपयोग नहीं करते।	अपना पैसा वापस पाने के लिए अनुचित साधनों का उपयोग करते हैं।																				
उदाहरण: बैंक, सहकारी समितियां, आदि।	उदाहरण: साहूकार, मित्र, परिवार, रिश्तेदार, कृषि व्यापारी, आदि।																				
कोई अन्य महत्वपूर्ण बिन्दु।	कोई अन्य महत्वपूर्ण बिन्दु।																				
	<div>खण्ड – ड.</div> <div>(केस/स्रोत– आधारित प्रश्न)</div>		3X4=12																		
34	<div>दिए गए स्रोत को पढ़िए और उसके नीचे दिए गए प्रश्नों के उत्तर लिखिए।</div> <div>स्थानीय स्वशासन</div> <p>स्थानीय शासन का ढाँचा ज़िला स्तर तक का है। कई ग्राम पंचायतों को मिलाकर पंचायत समिति का गठन होता है। इसे मंडल या प्रखंड स्तरीय पंचायत भी कह सकते हैं। इसके सदस्यों का चुनाव उस इलाके के सभी पंचायत सदस्य करते हैं। किसी ज़िले की सभी पंचायत समितियों को मिलाकर ज़िला परिषद् का गठन होता है। ज़िला परिषद् के अधिकांश सदस्यों का चुनाव होता है। ज़िला परिषद् में उस ज़िले से लोक सभा और विधान सभा के लिए चुने गए सांसद और विधायक तथा ज़िला स्तर की संस्थाओं के कुछ अधिकारी भी सदस्य के रूप में होते हैं। ज़िला परिषद् का प्रमुख इस परिषद् का राजनीतिक प्रधान होता है।</p> <p>इस प्रकार स्थानीय शासन वाली संस्थाएँ शहरों में भी काम करती हैं। शहरों में नगरपालिका होती है। बड़े शहरों में नगर निगम का गठन होता है। नगरपालिका और नगर निगम, दोनों का कामकाज निर्वाचित प्रतिनिधि करते हैं। नगरपालिका प्रमुख नगरपालिका के राजनीतिक प्रधान होते हैं। नगर निगम के ऐसे पदाधिकारी को मेयर कहते हैं।</p> <p>स्थानीय सरकारों की यह नयी व्यवस्था दुनिया में लोकतंत्र का अब तक का सबसे बड़ा प्रयोग है।</p>	24-25 P	4																		

	<p>34.1 ग्राम पंचायतों और पंचायत समितियों के बीच संबंधों को स्पष्ट कीजिए। (1)</p> <p>(i) ग्राम पंचायतों को मिलाकर पंचायत समितियां बनाई जाती हैं। (ii) पंचायत समिति कानून जिला परिषद व ग्राम पंचायत के मध्य सेतू का कार्य करता है। (iii) कोई अन्य महत्वपूर्ण बिन्दु। किसी एक बिन्दु की व्याख्या कीजिए।</p> <p>34.2 नगर निगम की संरचना नगरपालिका से किस प्रकार भिन्न है? (1)</p> <p>(i) नगर निगम एक शहरी स्थानीय स्वशासन निकाय है जो शहर का प्रशासन करता है। नगर पालिका भी एक शहरी स्वशासन निकाय है जो शहर का प्रशासन करता है। (ii) कोई अन्य महत्वपूर्ण बिन्दु। किसी एक बिन्दु की व्याख्या कीजिए।</p> <p>34.3 स्थानीय सरकार की संरचना लोकतंत्र को कैसे बढ़ावा देती है? परख कीजिए। (2)</p> <p>(i) यह जमीनी स्तर पर लोकतंत्र को बढ़ावा देता है। (ii) यह लोकतंत्र को गहरा करता है। (iii) महिलाओं की भागीदारी बढ़ाता है। (iv) निर्णय लेने में लोगों की भागीदारी। (v) कोई अन्य महत्वपूर्ण बिन्दु। किन्हीं दो बिन्दुओं की व्याख्या कीजिए।</p>		
35	<p>दिए गए स्रोत को पढ़िए और उसके नीचे दिए गए प्रश्नों के उत्तर लिखिए। प्रकाशन के नए रूप</p> <p>उन्नीसवीं सदी के अंत तक, एक नयी तरह की दृश्य-संस्कृति भी आकार ले रही थी। छापेखानों की बढ़ती तादाद के साथ छवियों की कई प्रतियाँ अब बड़ी आसानी से बनाई जा सकती थीं। राजा रवि वर्मा जैसे चित्रकारों ने आम खपत के लिए तसवीरें बनाईं। काठ की तख्ती पर चित्र उकेरने वाले गरीब दस्तकारों ने लेटरप्रेस छापेखानों के करीब अपनी दुकानें लगाईं और मुद्रकों से काम पाने लगे। बाज़ार में सुलभ सस्ती तसवीरें और कैलेंडर खरीदकर गरीब भी अपने घरों एवं दफ्तरों में सजाया करते थे। इन छपी तसवीरों ने आहिस्ता-आहिस्ता आधुनिकता और परंपरा, धर्म और राजनीति तथा समाज और संस्कृति के लोकप्रिय विचार-लोक को गढ़ना शुरू किया।</p> <p>1870 के दशक तक पत्र-पत्रिकाओं में सामाजिक-राजनीतिक विषयों पर टिप्पणी करते हुए कैरिकेचर और कार्टून छपने लगे थे। कुछ में शिक्षित भारतीयों की पश्चिमी पोशाक और पश्चिमी अभिरुचियों का मज़ाक उड़ाया गया, जबकि कुछ अन्य में सामाजिक परिवर्तन को लेकर एक डर देखा गया। साम्राज्यवादी व्यंग्यचित्रों में राष्ट्रवादियों का मज़ाक उड़ाया जाता था, तो राष्ट्रवादी भी साम्राज्यवादी सत्ता पर निशाना साधने में पीछे नहीं रहे।</p>	123 H	1+1+2=4

	<p>35.1 प्रिंटिंग तकनीक के विकास ने दृश्य संस्कृति को कैसे प्रभावित किया। (1)</p> <p>(i) राजा रवि वर्मा जैसे चित्रकारों ने बड़े पैमाने पर प्रचलन के लिए चित्र बनाए।</p> <p>(ii) प्रिंटिंग प्रेस की बढ़ती संख्या के कारण दृश्य छवियों को आसानी से कई प्रतियों में पुनः प्रस्तुत किया जा सकता था।</p> <p>(iii) कोई अन्य महत्वपूर्ण बिन्दु।</p> <p>किसी एक बिन्दु की व्याख्या कीजिए।</p> <p>35.2 राजा रवि वर्मा ने भारत में कला के सामूहिक प्रसार में कैसे योगदान दिया? (1)</p> <p>(i) बाज़ार में आसानी से उपलब्ध सस्ते प्रिंट और कैलेंडर को गरीब लोग भी अपने घरों या कार्यस्थलों की दीवारों को सजाने के लिए खरीद सकते थे।</p> <p>(ii) राजा रवि वर्मा प्रेस ने असंख्य पौराणिक चित्र बनाए जो अब आम जनता के लिए सुलभ थे।</p> <p>(iii) कोई अन्य महत्वपूर्ण बिन्दु।</p> <p>किसी एक बिन्दु की व्याख्या कीजिए।</p> <p>35.3 दृश्य संस्कृति ने 19वीं शताब्दी के अंत में सामाजिक परिदृश्य की स्मृति को कैसे आकार दिया? स्पष्ट कीजिए। (2)</p> <p>(i) सामाजिक और राजनीतिक मुद्दों पर टिप्पणी करते हुए पत्रिकाओं और समाचार पत्रों में कैरिकेचर और कार्टून प्रकाशित किए जा रहे थे।</p> <p>(ii) कुछ ने पश्चिमी स्वाद और कपड़ों के प्रति शिक्षित भारतीयों के आकर्षण का उपहास किया।</p> <p>(iii) दूसरों ने सामाजिक परिवर्तन के डर को व्यक्त किया।</p> <p>(iv) राष्ट्रवादी कार्टूनों ने औपनिवेशिक शासन की आलोचना की।</p> <p>(v) कोई अन्य महत्वपूर्ण बिन्दु।</p> <p>किन्हीं दो बिन्दु की व्याख्या कीजिए।</p>		
36	<p>दिए गए स्रोत को पढ़िए और उसके नीचे दिए गए प्रश्नों के उत्तर लिखिए।</p> <p>पवित्र पेड़ों के झुरमुट – विविध और दुर्लभ जातियों की संपत्ति</p> <p>प्रकृति की पूजा सदियों पुराना जनजातीय विश्वास है, जिसका आधार प्रकृति के हर रूप की रक्षा करना है। इन्हीं विश्वासों ने विभिन्न वनों को मूल एवं कौमार्य रूप में बचाकर रखा है, जिन्हें पवित्र पेड़ों के झुरमुट (देवी-देवताओं के वन) कहते हैं। इन वन खंडों या बड़े वन के भागों को स्थानीय लोगों द्वारा अछूता छोड़ दिया गया है तथा इनमें किसी भी प्रकार का हस्तक्षेप प्रतिबंधित है।</p>	17 G	4



कुछ समाज कुछ विशेष पेड़ों की पूजा करते हैं और आदिकाल से उनका संरक्षण करते आ रहे हैं। छोटानागपुर क्षेत्र में मुंडा और संथाल जनजातियाँ महुआ और कदंब के पेड़ों की पूजा करते हैं। ओडिशा और बिहार की जनजातियाँ शादी के दौरान इमली और आम के पेड़ की पूजा करती हैं। हममें से बहुत से व्यक्ति पीपल और वटवृक्ष को पवित्र मानते हैं।

भारतीय समाज में अनेकों संस्कृतियाँ हैं और प्रत्येक संस्कृति में प्रकृति और इसकी कृतियों को संरक्षित करने के अपने पारंपरिक तरीके हैं। आमतौर पर झरनों, पहाड़ी चोटियों, पेड़ों और पशुओं को पवित्र मानकर उनका संरक्षण किया जाता है। आप अनेक मंदिरों के आसपास बंदर और लंगूर पाएँगे। उपासक उन्हें खिलाते-पिलाते हैं और मंदिर के भक्तों में गिनते हैं। राजस्थान में बिश्नोई गाँवों के आसपास आप काले हिरण, चिंकारा, नीलगाय और मोरों के झुंड देख सकते हैं जो वहाँ के समुदाय का अभिन्न हिस्सा हैं और कोई उनको नुकसान नहीं पहुँचाता।

36.1 पवित्र वन, आध्यात्मिकता और पारिस्थितिकी के आपसी संबंध को कैसे दर्शाता है? (1)

- पवित्र गुणों को अक्सर झरनों, पर्वत शिखरों, पौधों और जानवरों को माना जाता है जिन्हें बारीकी से संरक्षित किया जाता है।
- बहुत सारे समुदायों में पर्वतों, वृक्षों, जानवरों की पूजा की जाती है।
- कोई अन्य महत्वपूर्ण बिन्दु।

किसी एक बिन्दु की व्याख्या कीजिए।

36.2 जनजातियों की प्रथाएं वन संरक्षण को कैसे बढ़ावा देती हैं? (1)

- छोटा नागपुर क्षेत्र के मुंडा और संथाल महुआ और कदंब के पेड़ों की पूजा करते हैं।
- ओडिशा और बिहार के आदिवासी शादियों के दौरान इमली और आम के पेड़ों की पूजा करते हैं।
- कोई अन्य महत्वपूर्ण बिन्दु।

किसी एक बिन्दु का वर्णन कीजिए।

36.3 वन्य जीव संरक्षण हम सबके लिए महत्वपूर्ण क्यों है? व्याख्या कीजिए। (2)

- यह पारिस्थितिक संतुलन बनाए रखता है।
- पारिस्थितिक विविधता को संरक्षित करता है।
- हमारे जीवन समर्थन प्रणाली को संरक्षित करता है।
- कोई अन्य महत्वपूर्ण बिन्दु।

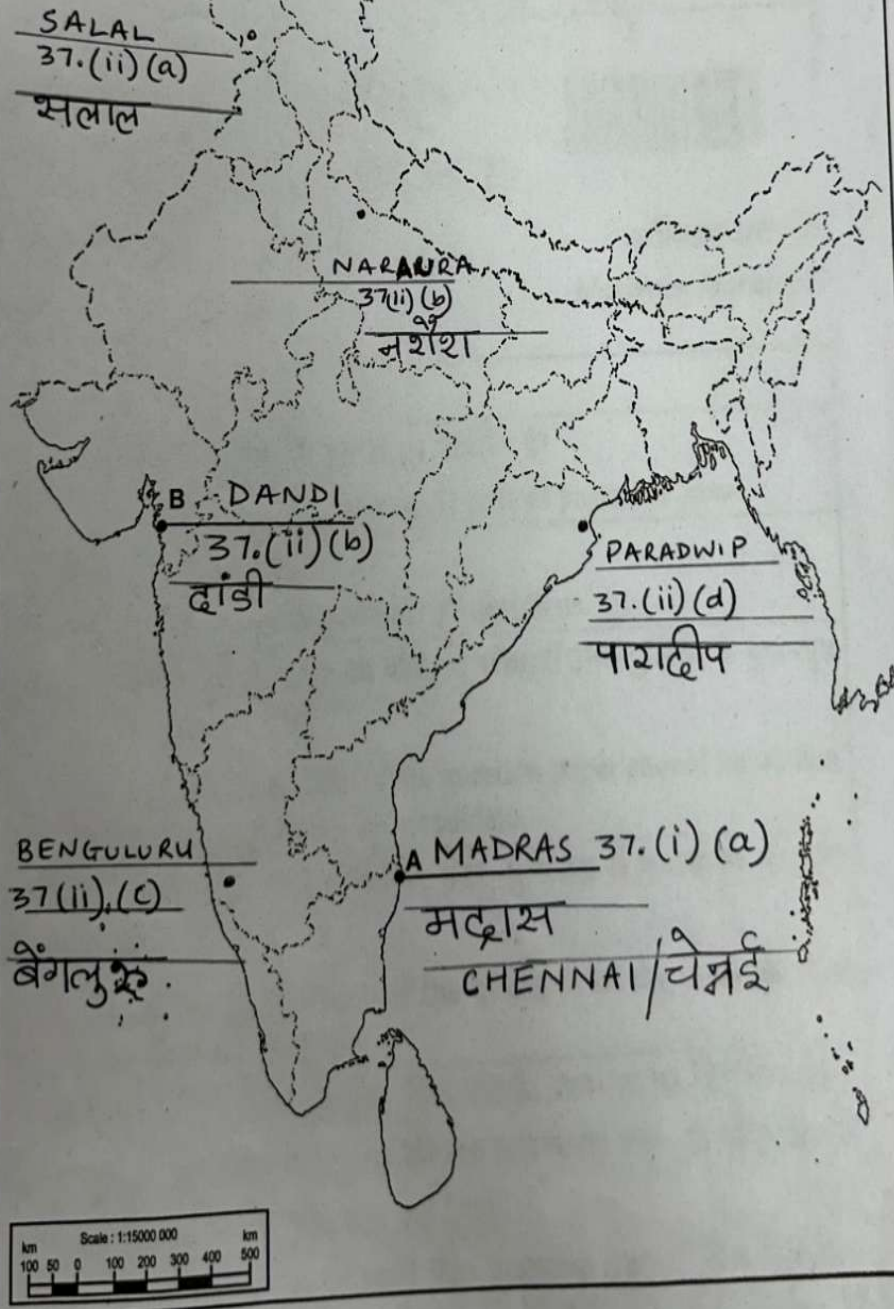
किन्हीं दो बिन्दुओं का वर्णन कीजिए।

प्रश्न संख्या 37 के लिए मानचित्र

Map for Q. No. 37

32/4/1,2,3

भारत का राजनीतिक रेखा-मानचित्र
POLITICAL OUTLINE MAP OF
INDIA



× Cut Here यहाँ से काटें × Cut Here यहाँ से काटें × Cut Here यहाँ से काटें